



## PREFEITURA MUNICIPAL DE SUZANO

ESTADO DE SÃO PAULO

CONCURSO PÚBLICO

### 022. PROVA OBJETIVA

#### GESTOR DE CONTRATOS

- ◆ Você recebeu sua folha de respostas e este caderno contendo 60 questões objetivas.
- ◆ Confira seus dados impressos na capa deste caderno e na folha de respostas.
- ◆ Quando for permitido abrir o caderno, verifique se está completo ou se apresenta imperfeições. Caso haja algum problema, informe ao fiscal da sala.
- ◆ Leia cuidadosamente todas as questões e escolha a resposta que você considera correta.
- ◆ Marque, na folha de respostas, com caneta de tinta azul ou preta, a letra correspondente à alternativa que você escolheu.
- ◆ A duração da prova é de 3 horas e 30 minutos, já incluído o tempo para o preenchimento da folha de respostas.
- ◆ Só será permitida a saída definitiva da sala e do prédio após transcorridos 75% do tempo de duração da prova.
- ◆ Deverão permanecer em cada uma das salas de prova os 3 últimos candidatos, até que o último deles entregue sua prova, assinando termo respectivo.
- ◆ Ao sair, você entregará ao fiscal a folha de respostas e este caderno, podendo levar apenas o rascunho de gabarito, localizado em sua carteira, para futura conferência.
- ◆ Até que você saia do prédio, todas as proibições e orientações continuam válidas.

AGUARDE A ORDEM DO FISCAL PARA ABRIR ESTE CADERNO DE QUESTÕES.

Nome do candidato \_\_\_\_\_

Prédio \_\_\_\_\_

Sala \_\_\_\_\_

Carteira \_\_\_\_\_

Inscrição \_\_\_\_\_



## CONHECIMENTOS GERAIS

### LÍNGUA PORTUGUESA

01. Leia a tira, para responder à questão.



(Bill Watterson, *Tiras do Calvin*. Disponível em: <www.aprendizdeescritor.com.br>. Acesso em: 27 jan 2016)

Sabendo-se que a frase citada por Calvin é atribuída a Karl Marx, é correto afirmar que o efeito de sentido da tira está na ideia de que

- (A) a televisão faz apologia de drogas, tais como o ópio, à população, independentemente dos protestos da religião.
- (B) as drogas ainda não eram consumidas pela população mundial quando a frase citada foi escrita.
- (C) a televisão é o que exerce ação hipnótica sobre as faculdades intelectuais das pessoas.
- (D) a religião sinalizava o perigo da televisão, embora Marx não tivesse afirmado isso.
- (E) o ópio entorpece o povo, impedindo-o de apreciar o que há de bom atualmente na televisão.

Leia o texto, para responder às questões de números 02 a 08.

Mesmo os pouco observadores devem ter notado um novo aparelho na temporada de férias. Tecnologia de ponta? Só no sentido mais estritamente literal.

Neste ano, o “pau de selfie”, monopé que permite tirar autorretratos, conquistou o mercado dos viajantes. Não deixará de surpreender que em pleno 2015 o homem tenha redescoberto a utilidade tecnológica de um bastão.

Na pré-história, o homem vagou pelos bosques apoiando-se nele; milhares de anos depois, a moda volta, de forma distorcida: o instrumento que servia para conectar o homem com o que estava sob seus pés – a terra – e o apoiava, literalmente, para abrir passo pelo mundo se converteu em uma ligação com o mundo superior. Se eu não me vejo, como sei que existo? Esse novo cajado nos permite uma perspectiva aérea da existência.

O filósofo alemão Peter Sloterdijk explica que aquilo que nós entendemos por tecnologia é uma tentativa de substituir os sistemas imunológicos implícitos por sistemas imunológicos explícitos.

Em nossa época, os sistemas de defesa que criamos procuram nos isolar de um exterior que se nega a ceder à tendência individualista da sociedade. Por isso andamos de um lugar a outro sem renunciar nunca a nosso mundo: nos transformamos em uma sociedade de caranguejos-eremitas, carregando no lombo nossas casas. Sentados entre centenas de passageiros, nos protegemos, com nossos fones de ouvidos, celulares e vídeos, do encontro com o exterior. Agora, o “pau de selfie” nos permite tirar fotos sem a incômoda necessidade de interagir com estranhos. Nos transformamos em seres autossuficientes e, em decorrência disso, necessariamente antissociais.

A máxima ironia do mundo globalizado é a crescente insularidade do indivíduo. Como o exterior é impessoal, nos embrenhamos no interior; como a comunidade nos debilita, a individualidade se torna preponderante; é assim que a casa familiar dá lugar ao apartamento individual – e a autogamia moderna surge.

O fenômeno do “selfie” responde a essa condição insular e por isso se arraigou como a manifestação estética da revolução digital. O isolamento do indivíduo é tal que, liberto do voyeurismo\*, teve de conceber um autovoyeurismo: nos tornamos paparazzi\* de nós mesmos. O “selfie” procura esconder nossa natureza isolada e solitária sob o verniz da felicidade e do gozo.

(Emílio Lezama, *Paparazzi de nós mesmos*. *Folha de S.Paulo*, 30-08-2015. Adaptado)

\***Voyeurismo**: forma de curiosidade mórbida com relação ao que é privativo, privado ou íntimo.

\***Paparazzi**: fotógrafos que perseguem celebridades, para bater fotos indiscretas.

02. Na passagem – Tecnologia de ponta? Só no sentido mais estritamente literal. –, o autor faz referência ao sentido literal


- (A) para destacar a criatividade do novo objeto da temporada, especialmente pela sofisticação de seu emprego.
- (B) como ironia para expor a simplicidade da concepção do “pau de selfie”, por associação com a forma e o uso do objeto.
- (C) como reverência às modernas tecnologias de informática, destacando a relevância do “pau de selfie”.
- (D) como forma de identificar-se aos usuários das tecnologias digitais que são moda nas temporadas de férias.
- (E) para expor um ponto de vista favorável à utilidade do objeto nas mais variadas situações de uso.

03. Com a frase – Se eu não me vejo, como sei que existo? – o autor destaca, em tom irônico,
- (A) a irracionalidade dos meios digitais que levam o sujeito a enxergar-se como parte indissociável do grupo a que pertence.
  - (B) o gosto da autocontemplação como forma de anular o indivíduo, lançando-o na massa dos viciados em tecnologias.
  - (C) o sentimento de participação do sujeito, alcançado graças à globalização, que unifica interesses e gostos.
  - (D) o individualismo decorrente da adoção de mídias que favorecem o descolamento do sujeito do meio que o cerca.
  - (E) a presença de novos valores, que substituem a supremacia da razão pela demanda de objetos de satisfação da coletividade.
04. Assinale a alternativa em que existe, nesta ordem, um par de termos antônimos, como em **implícitos e explícitos** (I), e um par de termos sinônimos, como em **preponderante e dominante** (II).
- (A) ceder e resistir (I) / debilita e esmorece (II).
  - (B) isolamento e comunidade (I) / insularidade e insatisfação (II).
  - (C) incômoda e maçante (I) / liberto e cativo (II).
  - (D) conectar e desligar (I) / carreando e acareando (II).
  - (E) estritamente e contritamente (I) / suficiência e abastança (II).
05. Assinale a alternativa cujos verbos estão corretamente conjugados e cujos pronomes estão colocados na frase de acordo com a norma-padrão.
- (A) Talvez transformemos-nos em uma sociedade de caranguejos-eremitas, que carrea no lombo as casas.
  - (B) Provavelmente com isso nos mantêssemos protegidos do encontro com o exterior.
  - (C) Se eu nunca me vir, como saberei que outros me verão e intervirão, se necessário?
  - (D) ...como a comunidade debilitará-nos, até a individualidade se desfará.
  - (E) Nos tornaremos seres autossuficientes se nos dispormos ao isolamento?
06. A alternativa que se caracteriza pelo emprego das palavras destacadas em sentido figurado é:
- (A) Neste ano, o “**pau de selfie**”, **monopé** que permite tirar autorretratos, conquistou o mercado dos viajantes.
  - (B) Agora, o “pau de selfie” nos permite tirar fotos sem a **incômoda** necessidade de interagir com **estranhos**.
  - (C) Por isso **andamos** de um lugar a outro sem renunciar nunca a nosso **mundo**...
  - (D) Mesmo os pouco **observadores** devem ter notado um novo aparelho na **temporada** de férias.
  - (E) ... nos transformamos em uma **sociedade de caranguejos-eremitas**, carreando no lombo nossas casas.
07. Na passagem – O isolamento do indivíduo é tal que, liberto do voyeurismo, **teve de conceber um autovoyeurismo**... – o trecho destacado expressa, em relação ao que o antecede, a ideia de
- (A) finalidade.
  - (B) restrição.
  - (C) explicação.
  - (D) consequência.
  - (E) modo.
08. Assinale a alternativa que reescreve trecho da passagem a seguir sem prejuízo de sentido e com pontuação de acordo com a norma-padrão.
- Como o exterior é impessoal, nos embrenhamos no interior; como a comunidade nos debilita, a individualidade se torna preponderante; é assim que a casa familiar dá lugar ao apartamento individual – e a autogamia moderna surge.
- (A) Embrenhamo-nos no interior porque o exterior é impessoal, e a individualidade se torna preponderante visto que a comunidade nos debilita.
  - (B) A autogamia moderna surge, portanto, a casa familiar dá lugar, ao apartamento.
  - (C) Dado que nos embrenhamos no interior, o exterior é impessoal e a comunidade nos debilita, pois a individualidade, se torna preponderante.
  - (D) É assim que a casa familiar dá lugar ao apartamento individual, contanto, que a autogamia moderna surja.
  - (E) O exterior é impessoal embora nos embrenhemos no interior. A individualidade se torna preponderante apesar, de a comunidade, nos debilitar.

09. Assinale a alternativa que apresenta concordância nominal e verbal de acordo com a norma-padrão.

- (A) Já recebi bastante apelidos pejorativos, como “go-leiro de pebolim” e outros que o recato me impedem de mencionar.
- (B) Em alguns desses tantos cadastros que se faz no comércio, a atendente me disse que era preciso co-locar anexo uma foto recente.
- (C) Foi preciso pedir emprestado ao colega as requisi-ções de compras, pois ali não se encontravam ne-nhuma delas.
- (D) Entendi que bastavam eles fazerem o depósito até meio-dia e meio, para que não houvesse problemas.
- (E) É necessário paciência para ouvir o que mais de um reclamante tem a dizer acerca do atraso no atendi-mento.

10. Leia a tira, para responder à questão.



(Bill Watterson, Tiras do Calvin. Disponível em: <www1.folha.uol.com.br>. Acesso em: 26 jan 2016)

A alternativa que preenche, correta e respectivamente, as lacunas do texto é:

- (A) Porque ... do que ... manter ... a
- (B) Por que ... a ... mantiver ... em
- (C) Por que ... à ... mantivesse ... em
- (D) Porque ... do que ... mantinha ... a
- (E) Por que ... à ... manter ... em

11. Do valor total de uma multa recebida após uma fiscaliza-ção tributária, uma empresa pagou  $\frac{2}{5}$  e teve, anistiados,

$\frac{2}{5}$  do valor que restou. Se a empresa ainda deve pagar

R\$ 8.100,00 para quitar essa multa, então o valor original da multa recebida era

- (A) R\$ 18.100,00.
- (B) R\$ 20.400,00.
- (C) R\$ 22.500,00.
- (D) R\$ 26.300,00.
- (E) R\$ 30.200,00.

12. A caminhada diária de Denis dura exatamente  $n$  minutos. Sabe-se que na caminhada de sábado, ele percorreu, em média, 1,2 km a cada 12 minutos, e que, na caminhada de domingo, ele percorreu, em média, 1,35 km a cada 15 minutos. Desse modo, é correto afirmar que a distân-cia percorrida por Denis no domingo correspondeu, da distância percorrida no sábado, a:

- (A)  $\frac{5}{4}$
- (B)  $\frac{7}{6}$
- (C)  $\frac{12}{13}$
- (D)  $\frac{9}{10}$
- (E)  $\frac{3}{4}$

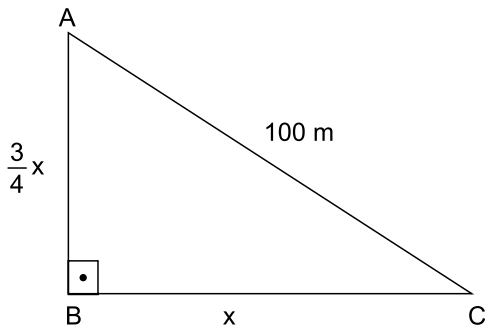
13. Em um município, há dois novos polos industriais, A e B, com 72 e 54 empresas, respectivamente. Para efeito de fiscalização, essas empresas deverão ser totalmente divi-didas em grupos. Todos os grupos deverão ter o mesmo número de empresas, sendo esse número o maior possí-vel, de modo que cada grupo tenha empresas de um só polo e que não reste nenhuma fora de um grupo. Nessas condições, o número de grupos formados será

- (A) 3.
- (B) 5.
- (C) 6.
- (D) 7.
- (E) 9.

14. Sabe-se que na confecção Sigma, em certo período, a razão do número de peças vendidas da linha feminina para o número de peças vendidas da linha masculina foi de 5 para 3, e que os preços médios unitários de venda das peças femininas e das peças masculinas foram, respectivamente, R\$ 68,00 e R\$ 60,00. Nessas condições, é correto afirmar que o preço médio unitário de todas as peças vendidas (masculinas e femininas), nesse período, foi
- (A) R\$ 66,00.
  - (B) R\$ 65,75.
  - (C) R\$ 65,00.
  - (D) R\$ 64,50.
  - (E) R\$ 64,00.
15. Verificando-se as movimentações ocorridas em uma conta corrente empresarial em um determinado período, constatou-se que o resultado da soma de todos os valores creditados e debitados tinha sido igual a 900 mil reais, e que o valor total creditado tinha superado o valor total debitado em 150 mil reais. A relação entre os valores totais creditados (C) e debitados (D), nesse período, é representada corretamente pela seguinte expressão:
- (A)  $D = 0,75 C$ .
  - (B)  $D = 0,90 C$ .
  - (C)  $C = 1,15 D$ .
  - (D)  $C = 1,25 D$ .
  - (E)  $C = 1,40 D$ .
16. Um número natural  $x$ , cujo quadrado menos dois terços deste quadrado resulta 12, indica a medida do lado de uma medalha esportiva, de formato quadrado. Nessas condições, o comprimento total do cordão preso à medalha, que corresponde a  $12x$ , é igual, em centímetros, a
- (A) 78.
  - (B) 72.
  - (C) 70.
  - (D) 66.
  - (E) 60.

17. Rafael comprou um imóvel por um determinado valor, e gastou uma quantia correspondente a 20% desse valor na reforma dele. Posteriormente, ele vendeu esse imóvel por R\$ 360.000,00, obtendo um lucro correspondente a 50% dos valores da compra e da reforma, somados. Nesse caso, é correto afirmar que o valor gasto por Rafael, na reforma desse imóvel, foi igual a
- (A) R\$ 48.000,00.
  - (B) R\$ 40.000,00.
  - (C) R\$ 36.000,00.
  - (D) R\$ 30.000,00.
  - (E) R\$ 28.000,00.

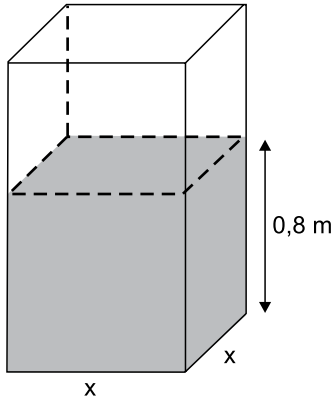
18. Em uma praça com a forma de um triângulo retângulo, a medida do lado  $\overline{AB}$  é igual a  $\frac{3}{4}$  da medida do lado  $\overline{BC}$ , e o lado  $\overline{AC}$  mede 100 metros, conforme mostra a figura.



Nessas condições, é correto afirmar que a área dessa praça é igual, em  $\text{m}^2$ , a

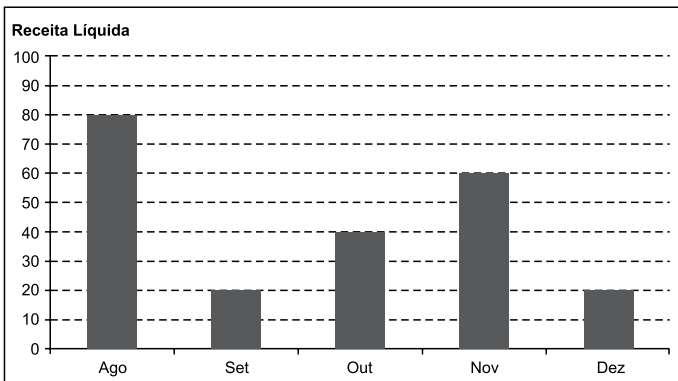
- (A) 2 400.
- (B) 2 800.
- (C) 3 200.
- (D) 3 600.
- (E) 4 800.

19. Uma torneira, com vazão constante de  $0,02 \text{ m}^3$  por minuto, foi acionada para encher um reservatório com formato de um prisma reto retângulo de base quadrada e paredes de espessura desprezível, inicialmente vazio. Em 1 h 30 min, a altura do nível da água no reservatório atingiu  $0,8 \text{ m}$ , conforme mostra a figura.



O perímetro da base desse reservatório é igual, em metros, a

- (A) 6,0.  
 (B) 5,6.  
 (C) 5,2.  
 (D) 4,8.  
 (E) 4,4.
20. O gráfico mostra a Receita Líquida (RL) mensal, em milhões de reais, de certa empresa nos últimos cinco meses de 2015.



Sabe-se que, nesse período, o Lucro Líquido (LL) médio mensal foi de  $6,6$  milhões de reais. O índice que mostra corretamente a relação  $\frac{LL_{total}}{RL_{total}}$ , no período considerado, é de

- (A) 0,185.  
 (B) 0,18.  
 (C) 0,17.  
 (D) 0,165.  
 (E) 0,15.



## ATUALIDADES

21. Governo anuncia medidas adicionais para alcançar o reequilíbrio fiscal e melhorar as contas para 2016.

(blog do Planalto. <http://goo.gl/CXelZP>, 14.09.2015)

Foram propostas para a diminuição de despesas e o aumento da arrecadação, respectivamente,

- (A) o adiamento do reajuste dos salários dos servidores públicos federais e a recriação da CPMF com alíquota de 0,2%.
- (B) a interrupção do programa *Minha Casa Minha Vida* e a cobrança de imposto de renda para quem ganha mais de um salário mínimo nacional.
- (C) o corte dos abonos aos salários dos servidores federais dos três poderes e uma nova tabela para a Previdência Social.
- (D) a suspensão de concursos públicos nos níveis municipal, estadual e federal e a ampliação dos benefícios tributários concedidos às empresas.
- (E) o fim do Programa de Aceleração do Crescimento e a criação de imposto sobre as grandes fortunas e os lucros bancários.

22. Entre muitos aplausos e lágrimas, ministros de 195 países aprovaram na noite de sábado (12.12) o "Acordo de Paris", primeiro marco jurídico universal de luta contra o aquecimento global. O documento histórico da 21ª Conferência do Clima (COP 21) das Nações Unidas terá caráter "legalmente vinculante", e define, pela primeira vez, um acordo válido para todas as nações.

(Estadão. <http://goo.gl/9UJspC>, 15.12.2015)

Esse acordo prevê que

- (A) os países do G5 financiarão sozinhos projetos de adaptação dos efeitos do aquecimento global nos países mais pobres.
- (B) as metas globais de redução da emissão de gases de efeito estufa sejam efetivadas, na ordem de 5% a cada ano até 2030.
- (C) os países desenvolvidos poderão manter os níveis industriais de emissão; os demais ficarão nos níveis pré-industriais.
- (D) os mecanismos de sanção econômica sejam aplicados a países que não respeitarem as metas de emissão definidas em Paris.
- (E) os países deverão organizar estratégias para limitar, a menos de 2 °C, o aumento da temperatura média global.

23. O país anunciou nesta quarta-feira (06.01), em sua emissora de televisão estatal, que realizou seu primeiro teste com uma bomba nuclear de hidrogênio, pouco depois que um terremoto de magnitude 5,1 foi detectado no nordeste do país como consequência da detonação atômica. Este seria o primeiro teste realizado com uma arma termonuclear, cuja detonação é muito mais poderosa que a dos dispositivos atômicos utilizados em seus três experimentos anteriores.

(Terra. <http://goo.gl/8ybpvD>. 06.01.2016. Adaptado)

O Conselho de Segurança da ONU condenou fortemente, em reunião neste domingo (07.02), o lançamento de um foguete pelo país. Acredita-se que possa ter sido um teste de um míssil balístico intercontinental.

(G1. <http://goo.gl/s2b8HI>, 07.02.2016. Adaptado)

As notícias referem-se

- (A) à China.
- (B) à Coreia do Norte.
- (C) à Índia.
- (D) ao Irã.
- (E) ao Paquistão.

24. A Petrobras voltou ao nível de 1999 no mercado de ações. Os papéis preferenciais da companhia despencaram 7% nesta segunda-feira (18.01), para R\$ 4,80. Ajustado pela inflação, o valor é o menor desde agosto de 1999. Sem considerar a inflação, as ações atingiram o menor patamar desde novembro de 2003.

(Folha-Uol. <http://goo.gl/mhy2DR>, 19.01.2016)

Essa situação da Petrobras é explicada

- (A) pelas indenizações pagas pela empresa aos Estados Unidos, pela baixa cambial e pela explosão de plataformas na bacia de Campos.
- (B) pela alta cotação internacional do petróleo, pela mudança na presidência da empresa e pela recessão do país.
- (C) pela volta do Irã como fornecedor ao mercado mundial, pela megacapitalização da empresa e pela valorização do real.
- (D) pela queda do preço do petróleo, pela corrupção revelada na Operação Lava Jato e pelo endividamento da empresa.
- (E) pela concorrência da Venezuela, pelo fracasso da extração do pré-sal na bacia de Santos e pelo fim dos investimentos na empresa.

25. Julian Assange afirmou, nesta sexta-feira (05.02), falando na embaixada do Equador em Londres, que o Reino Unido e a Suécia devem aplicar a decisão do comitê legal da ONU.


“Corresponde agora aos Estados da Suécia e do Reino Unido em seu conjunto implementar o veredicto”, afirmou à imprensa por videoconferência junto a sua equipe de advogados.

(G1. <http://goo.gl/6Rfpx>, 05.02.2016. Adaptado)

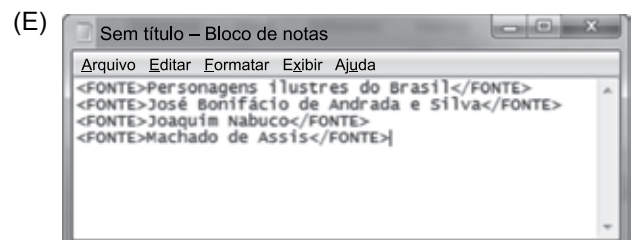
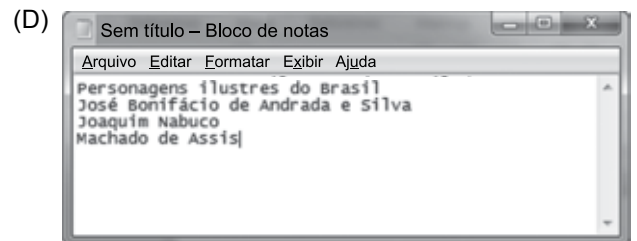
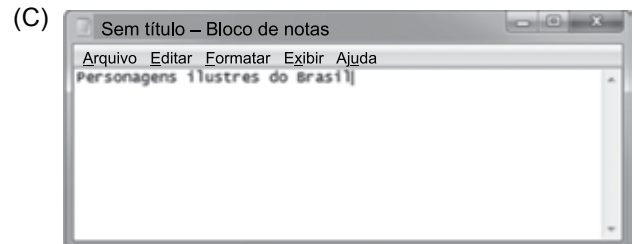
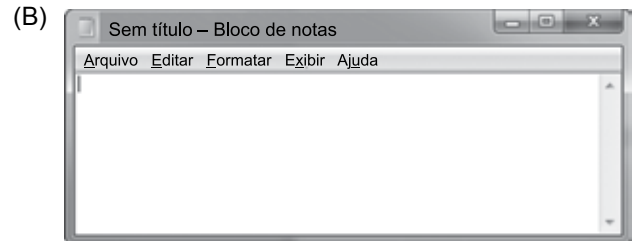
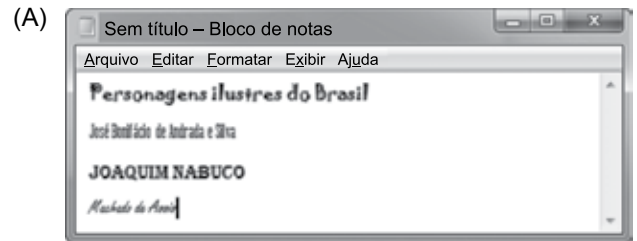
O comitê da ONU

- (A) concluiu que a Suécia e o Reino Unido prejudicaram os negócios de Assange no Equador, ao analisar documentos diplomáticos divulgados pelo site *WikiLeaks*.
- (B) afirmou que Assange foi vítima de perseguição política na Suécia, seu país natal, ao revelar que o governo do país fazia o monitoramento de telefones e dados da internet.
- (C) considerou que Assange foi detido arbitrariamente pelo Reino Unido, que autorizou sua extradição, e pela Suécia, onde ele é investigado por crimes sexuais.
- (D) determinou o pagamento de uma indenização por danos materiais a Assange, por concluir que o Reino Unido impediu que ele continuasse a trabalhar no país como jornalista.
- (E) aprovou a viagem de Assange aos Estados Unidos, onde ele será testemunha no processo contra empresários do Reino Unido e da Suécia acusados de corrupção na Fifa.

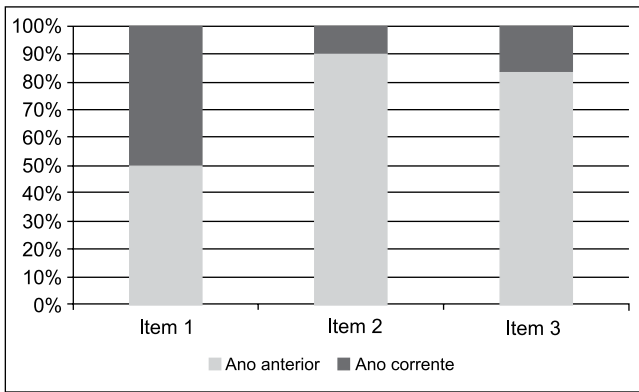
26. Um usuário editou um documento no Microsoft Word 2010, em sua configuração padrão, utilizando-se de diferentes fontes de letra e pressionando ENTER ao final de cada linha, conforme imagem a seguir.



Se o usuário selecionar todas as quatro linhas, pressionar CTRL+C, abrir o bloco de notas do Windows 7, em sua configuração original, e pressionar CTRL+V, o resultado será o seguinte:



27. Assinale a alternativa que apresenta o nome correto do gráfico a seguir, criado no Microsoft Excel 2010, em sua configuração padrão.



- (A) Barras empilhadas
- (B) Área
- (C) Colunas 100% empilhadas
- (D) Dispersão XY
- (E) Superfície

28. No Microsoft Word 2010, em sua configuração padrão, um documento com as margens superior e inferior contendo 2,5 cm, e esquerda e direita com 3 cm, tem a aparência a seguir:



Se um usuário configurar as margens como superior com 15 cm, inferior 2,5 cm, esquerda 10 cm e direita 3 cm, a aparência será da seguinte forma:

- (A)
- (B)
- (C)
- (D)
- (E)

29. Tem-se a planilha a seguir criada no Microsoft Excel 2010, em sua configuração original.

	A	B	C	D
1	1	1	1	
2	1	1	1	
3	1	1	1	
4				
5	9			
6				

Assinale a alternativa que apresenta a fórmula correta que foi aplicada na célula A5 para gerar o resultado 9.

- (A) =CONT.SE(A1:C3;">1")
- (B) =MÁXIMO(A1:C3)
- (C) =SOMASE(A1:C3)
- (D) =MÍNIMO(A1:C3)
- (E) =CONTAR(A1:C3)

30. Um usuário abriu o navegador de Internet Microsoft Internet Explorer 11, em sua configuração original, e acessou o site Google na única aba existente. Depois, na mesma aba, acessou o site da Vunesp. Clicou no link *Quem somos*, que carrega uma página HTML de informações da Vunesp, mantendo a tecla CTRL pressionada e depois clicou no botão *Voltar* do navegador. Assinale a alternativa que apresenta o resultado correto desta última ação.

- (A) O navegador retornou para a página principal do site da Vunesp.
- (B) O navegador retornou para a página do Google.
- (C) O navegador foi encerrado.
- (D) Não aconteceu nada, pois o botão *Voltar* estava inativo.
- (E) O navegador abriu a aba *Quem somos*.

## CONHECIMENTOS ESPECÍFICOS

Utilize as informações a seguir, relativas ao Balanço Patrimonial e Demonstração do Resultado da Cia. Comercial Morgana, de 2015, para responder às questões de números **31** a **37**.

BALANÇO PATRIMONIAL					
	31.12.2015	31.12.2014		31.12.2015	31.12.2014
Disponível	250.000,00	180.000,00	Fornecedores	800.000,00	680.000,00
Recebíveis	740.000,00	660.000,00	Contas a Pagar	350.000,00	370.000,00
Estoques	310.000,00	290.000,00	<b>PC</b>	<b>1.150.000,00</b>	<b>1.050.000,00</b>
<b>AC</b>	<b>1.300.000,00</b>	<b>1.130.000,00</b>	Emp. Longo Prazo	670.000,00	560.000,00
Investimentos	300.000,00	260.000,00	<b>PNC</b>	<b>670.000,00</b>	<b>560.000,00</b>
Imobilizado	2.000.000,00	1.610.000,00	Capital	620.000,00	520.000,00
(-) Depreciação	(800.000,00)	(650.000,00)	Reservas de Lucros	360.000,00	220.000,00
<b>ANC</b>	<b>1.500.000,00</b>	<b>1.220.000,00</b>	<b>PL</b>	<b>980.000,00</b>	<b>740.000,00</b>
<b>TOTAL DO ATIVO</b>	<b>2.800.000,00</b>	<b>2.350.000,00</b>	<b>TOTAL DO PASSIVO + PL</b>	<b>2.800.000,00</b>	<b>2.350.000,00</b>

DEMONSTRAÇÃO DE RESULTADO – 2015	
Vendas	2.100.000,00
(-) CMV	(1.400.000,00)
(-) Despesas de Depreciação	(150.000,00)
(-) Demais Despesas Operacionais	<u>(410.000,00)</u>
(=) Lucro líquido do exercício	<b>140.000,00</b>

**31.** O índice de liquidez corrente da companhia, em 31.12.2015, foi igual a:

**Dado:** desprezar os algarismos a partir da terceira casa decimal

- (A) 0,71.
- (B) 0,82.
- (C) 0,98.
- (D) 1,08.
- (E) 1,13.

**32.** O índice de liquidez seca em 31.12.2015 correspondeu a:

**Dado:** desprezar os algarismos a partir da terceira casa decimal

- (A) 0,67.
- (B) 0,73.
- (C) 0,78.
- (D) 0,86.
- (E) 1,01.

**33.** A margem bruta sobre vendas no exercício de 2015 equivaleu, em porcentagem, a:

**Dado:** desprezar os algarismos a partir da terceira casa decimal da porcentagem

- (A) 50,00%.
- (B) 33,33%.
- (C) 16,66%.
- (D) 10,00%.
- (E) 6,66%.

**34.** Considerando-se o ano comercial de 360 dias, o prazo médio de recebimento das vendas da companhia em 2015 foi, em número de dias, igual a:

**Dado:** utilize a média de recebíveis e despreze as casas decimais

- (A) 105.
- (B) 113.
- (C) 120.
- (D) 127.
- (E) 135.

35. O grau de endividamento da companhia em relação ao total de seus ativos em 31.12.2015, em porcentagem, foi:
- (A) 243%.
  - (B) 153%.
  - (C) 65%.
  - (D) 41%.
  - (E) 35%.
36. Considerando-se o ano comercial de 360 dias, o prazo médio de renovação de estoques da companhia foi equivalente, em número de dias, a:
- Dado:** utilize o estoque médio do ano, calcule seu giro com duas casas decimais e despreze as casas decimais do número de dias
- (A) 77.
  - (B) 80.
  - (C) 82.
  - (D) 85.
  - (E) 90.
37. O valor pago pela companhia a fornecedores no ano de 2015 montou, em R\$, a:
- (A) 1.240.000,00.
  - (B) 1.260.000,00.
  - (C) 1.280.000,00.
  - (D) 1.300.000,00.
  - (E) 1.540.000,00.
38. No Balanço Patrimonial, de acordo com as Normas Brasileiras de Contabilidade e com a Lei das Sociedades por Ações,
- (A) os estoques de mercadorias são avaliados pelo custo de aquisição ou pelo valor líquido de realização, dos dois o menor.
  - (B) as contas do Ativo usualmente apresentam saldo credor.
  - (C) as contas de Reservas de Lucros representam aportes que os sócios da companhia fizeram à entidade.
  - (D) as obrigações vencíveis em menos de 360 dias são classificadas no subgrupo Passivo Não Circulante.
  - (E) são apresentados os saldos das contas de resultado.
39. Na Demonstração de Resultado do Exercício,
- (A) são destacadas, em itens próprios, as receitas antecipadas e as despesas diferidas.
  - (B) são apresentados os fluxos de caixa decorrentes das atividades operacionais.
  - (C) devem ser evidenciadas as mudanças ocorridas no patrimônio líquido da entidade durante o exercício financeiro.
  - (D) o lucro líquido é equivalente à riqueza total adicionada pela companhia ao processo produtivo.
  - (E) o lucro bruto, numa empresa comercial, corresponde à diferença positiva entre a receita líquida de vendas e o custo das mercadorias vendidas.
40. Em um determinado exercício, as vendas líquidas da Cia. Comercial Gama totalizaram R\$ 2.600.000,00. Seu estoque inicial de mercadorias nesse exercício foi de R\$ 550.000,00. Adquiriu R\$ 1.450.000,00 de mercadorias, já deduzidos desse valor os impostos recuperáveis. A companhia adota o sistema do inventário periódico e a contagem do estoque final de mercadorias indicou que ele equivalia a 80% do estoque inicial. Na Demonstração do Resultado do Exercício, o lucro bruto da companhia equivaleu, em R\$, a:
- (A) 1.150.000,00.
  - (B) 1.040.000,00.
  - (C) 960.000,00.
  - (D) 940.000,00.
  - (E) 260.000,00.
41. De acordo com o art. 142 da Lei nº 5.172/66 (Código Tributário Nacional), o crédito tributário é constituído:
- (A) pela ocorrência do fato gerador.
  - (B) pelo lançamento.
  - (C) pelo nascimento da obrigação tributária principal.
  - (D) pelo nascimento da obrigação tributária acessória.
  - (E) pelo pagamento do tributo correspondente.

42. Uma determinada companhia optou pela tributação com base no Lucro Real trimestral no ano-calendário de 2015. Do Livro de Apuração do Lucro Real (LALUR) da companhia, relativo ao primeiro trimestre de 2015, foram extraídos os seguintes dados, em R\$:

– Lucro Líquido do Exercício antes do Imposto de Renda	420.000,00
– Adições na Parte A do LALUR	90.000,00
– Exclusões na Parte A do LALUR	130.000,00

A companhia tinha prejuízo a compensar de períodos de apuração anteriores do valor de R\$ 150.000,00. A companhia compensou o máximo permitido pela legislação do Imposto de Renda. Sabendo-se que o imposto de renda das pessoas jurídicas é calculado com base numa alíquota de 15% e que incide um adicional de 10% sobre a parcela da base de cálculo que ultrapassar R\$ 60.000,00 trimestrais, o valor do referido imposto devido no primeiro trimestre de 2015 correspondeu, em R\$, a:

- (A) 74.500,00.
- (B) 71.500,00.
- (C) 60.500,00.
- (D) 55.000,00.
- (E) 51.500,00.

43. A Cia. Montes Verdes apresentou os seguintes dados, extraídos de sua contabilidade e referentes ao 3º trimestre de 2014:

Receita Bruta:	
• revenda de mercadorias	2.000.000,00
• prestação de serviços em geral	400.000,00
Ganho de capital na venda de bem do Ativo Imobilizado	30.000,00
Rendimento de aplicações financeiras	20.000,00

A companhia é optante pela tributação com base no lucro presumido nesse ano-calendário. O valor do IRPJ (imposto mais adicional) devido pela companhia, relativo a esse trimestre, em R\$, é:

- (A) 78.500,00.
- (B) 66.000,00.
- (C) 54.500,00.
- (D) 51.000,00.
- (E) 46.000,00.

Utilize as informações a seguir para responder às questões de números 44 e 45.

A Companhia Comercial Jambeiro adquiriu, à vista, 2000 unidades de uma mercadoria para revenda, pagando R\$ 30,00 por cada uma.

No mesmo mês, vendeu à vista o mesmo lote de mercadorias por R\$ 50,00 cada uma.

Tanto a aquisição quanto a venda foram efetuadas com alíquota de ICMS de 18%. A companhia recolhe a Contribuição para o Financiamento da Seguridade Social (COFINS) na sistemática não cumulativa.

44. O valor do ICMS sobre essas transações a ser recolhido à Fazenda Estadual pela companhia no respectivo prazo de vencimento é, em R\$, de:

- (A) 18.000,00.
- (B) 10.800,00.
- (C) 9.600,00.
- (D) 7.200,00.
- (E) 6.500,00.

45. O valor da COFINS a ser recolhida à Fazenda Federal em virtude das mesmas transações é equivalente, em R\$, a:

- (A) 7.650,00.
- (B) 7.600,00.
- (C) 4.250,00.
- (D) 3.060,00.
- (E) 3.040,00.

46. Quanto aos contratos em geral, assinale a alternativa correta.

- (A) Quando houver no contrato de adesão cláusulas ambíguas ou contraditórias, dever-se-á adotar a interpretação mais favorável ao estipulante.
- (B) Não é lícito às partes a formulação de contratos atípicos.
- (C) Pode ser objeto de contrato a herança de pessoa viva ou falecida.
- (D) Os contratantes são obrigados a guardar, assim na conclusão do contrato, como em sua execução, os princípios de improbidade e boa-fé.
- (E) A liberdade de contratar será exercida em razão e nos limites da função social do contrato.

47. Bento da Silva adquiriu uma máquina de lavar roupa e uma máquina de passar roupa. Pedro Silva, vendedor das máquinas, teria garantido o perfeito funcionamento delas e a máquina de lavar roupa foi testada completando todo o seu ciclo, mas somente com a água. No dia seguinte ao da entrega do bem, Bento da Silva foi lavar as roupas de cama e a máquina funcionou para a lavagem das roupas, mas não funcionou na fase da centrifugação, e as roupas permaneceram completamente encharcadas. A máquina de passar roupa funcionou perfeitamente.

Diante desses fatos, assinale a alternativa correta.

- (A) O defeito apresentado caracteriza-se como vício redibitório, ensejando necessariamente no desfazimento da aquisição das máquinas de lavar roupa e de passar roupa.
- (B) Mesmo que Pedro Silva não conhecesse o vício ou defeito da máquina de lavar roupa, deverá restituir o que recebeu, bem como ressarcir Bento da Silva pelas perdas e danos, se houver.
- (C) Se Pedro Silva comprovar que não conhecia o vício ou defeito do bem, não restará caracterizado o vício redibitório e o negócio entabulado é considerado válido.
- (D) O prazo para Bento da Silva denunciar o defeito para obter a redibição ou abatimento no preço tem natureza decadencial.
- (E) Bento da Silva decairá do direito de obter a redibição ou abatimento no preço se não denunciar o defeito no prazo máximo de noventa dias, contados da entrega efetiva dos bens.

48. Paulo Silva é viúvo, tem três filhos e um patrimônio estimado em R\$ 1.000.000,00. Paulo Silva realizou um contrato de doação de um carro antigo de coleção no valor de R\$ 150.000,00 ao seu filho mais velho, com cláusula de reversão ao segundo se este sobreviver ao mais velho e ao caçula se este sobreviver ao filho do meio.

Diante desse contexto, assinale a alternativa correta.

- (A) O contrato de doação é válido em sua integralidade, importando em adiantamento ao filho do que lhe cabe por herança.
- (B) O contrato de doação é nulo porque não é possível a doação a descendente.
- (C) O contrato de doação é válido, mas não prevalece a cláusula de reversão em favor dos outros filhos.
- (D) O contrato de doação será nulo se não houver concordância dos demais filhos.
- (E) A doação será válida se realizada de forma verbal, mesmo sendo de valor elevado, por tratar-se de bem móvel.

49. Quanto aos contratos administrativos, assinale a alternativa correta.

- (A) É nulo e de nenhum efeito todo contrato verbal com a Administração Pública.
- (B) A publicação resumida do instrumento de contrato ou de seus aditamentos na imprensa oficial é condição indispensável para sua eficácia.
- (C) O instrumento de contrato é obrigatório nos casos de compra com entrega imediata e integral dos bens adquiridos, dos quais não resultem obrigações futuras, inclusive assistência técnica.
- (D) É facultativa a integração da minuta do futuro contrato ao edital ou ato convocatório da licitação.
- (E) A publicação do instrumento de contrato ou de seus aditamentos na imprensa oficial deve ser providenciada pela Administração sempre antes de sua assinatura.

50. Para os fins da Lei nº 8.666/1993, considera-se:

- (A) produtos manufaturados nacionais – produtos manufaturados, produzidos no território nacional ou estrangeiro de acordo com o processo produtivo básico e com as regras de origem estabelecidas pelo Poder Legislativo.
- (B) projeto executivo – o conjunto dos elementos necessários e suficientes à execução completa da obra, de acordo com as normas pertinentes da Associação Brasileira de Normas Técnicas – ABNT.
- (C) obra – toda atividade destinada a obter determinada utilidade de interesse para a Administração.
- (D) execução direta – a que é feita pelos órgãos e entidades da Administração, pelos próprios meios ou por empreitada integral.
- (E) empreitada por preço global – quando se contrata a execução da obra ou do serviço por preço certo de unidades determinadas.

51. Nos termos da Lei nº 8.666/1993, assinale a alternativa correta.
- (A) O regime jurídico dos contratos administrativos instituídos por esta Lei confere à Administração a prerrogativa de alterar as cláusulas econômico-financeiras e monetárias dos contratos independentemente de prévia concordância do contratado.
  - (B) A declaração de nulidade do contrato administrativo não opera retroativamente, e o contrato produzirá os regulares efeitos jurídicos até a data de declaração da nulidade.
  - (C) A declaração de nulidade do contrato administrativo sempre exonera a Administração do dever de indenizar o contratado pelo que este houver executado até a data em que for declarada.
  - (D) A duração de todos os contratos regidos por esta Lei ficará adstrita à vigência dos respectivos créditos orçamentários.
  - (E) É vedado o contrato com prazo de vigência indeterminado.
52. Em consonância com a Lei nº 8.666/93, é correto afirmar que
- (A) o contratado deverá manter preposto, aceito pela Administração, no local da obra ou serviço, para representá-lo na execução do contrato.
  - (B) a execução do contrato deverá ser acompanhada e fiscalizada por um representante da Administração especialmente designado, não sendo permitida a contratação de terceiros para assisti-lo e subsidiá-lo de informações pertinentes a essa atribuição.
  - (C) o contratado e a Administração Pública são solidariamente responsáveis pelos encargos trabalhistas, previdenciários, fiscais e comerciais resultantes da execução do contrato.
  - (D) não é atribuição da Administração a fiscalização do cumprimento dos requisitos de acessibilidade nos serviços e nos ambientes de trabalho.
  - (E) não é possível ao contratado, na execução do contrato, subcontratar partes da obra, serviço ou fornecimento.
53. O Município realiza contrato de aquisição de veículos adaptados para transporte de crianças portadoras de deficiência e, após a prestação dos serviços por seis meses, o Tribunal de Contas determina a anulação do contrato por ter sido realizado sem a necessária licitação.
- A partir desses fatos, assinale a alternativa correta.
- (A) A declaração de nulidade do contrato terá efeitos *ex nunc*, produzindo todos os efeitos jurídicos que ele, ordinariamente, deveria produzir até a data da declaração de nulidade.
  - (B) Como houve a consumação do contrato com a sua assinatura e estando no curso da prestação de serviços, o contrato não poderá ser anulado. Deve vigorar até o seu término, sendo vedada a prorrogação.
  - (C) A declaração de nulidade do contrato exonera a Administração do dever de indenizar o contratado pelo que este houver executado até a data em que a nulidade for declarada.
  - (D) A declaração de nulidade do contrato administrativo se operará retroativamente impedindo os efeitos jurídicos que ele, ordinariamente, deveria produzir, além de desconstituir os já produzidos.
  - (E) Estando em plena vigência um contrato que garante direito fundamental do deficiente físico, não é possível a sua anulação em razão de vício na licitação.
54. Quanto à rescisão do contrato administrativo, assinale a alternativa correta.
- (A) O atraso injustificado no início da obra, serviço ou fornecimento pode constituir motivo para rescisão do contrato.
  - (B) O atraso superior a 60 (sessenta) dias dos pagamentos devidos pela Administração decorrentes de obras, serviços ou fornecimento, ou parcela destes, já recebidos ou executados pode constituir motivo para rescisão do contrato.
  - (C) A ocorrência de caso fortuito ou de força maior não pode constituir motivo para rescisão do contrato.
  - (D) A rescisão administrativa ou amigável prescinde de autorização escrita e fundamentada da Administração.
  - (E) A rescisão do contrato administrativo não pode ser determinada por ato unilateral da Administração.



- 55.** Com relação à administração pública, assinale a alternativa correta.
- (A) Na administração direta, ocorre a centralização quando as tarefas administrativas são exercidas diretamente pela União, Estados, Distrito Federal e Municípios.
  - (B) Existe descentralização quando há subdivisões internas das tarefas através de órgãos da administração pública.
  - (C) A desconcentração ocorre quando o Estado executa as tarefas administrativas por meio de outras empresas; denominando-se administração indireta.
  - (D) A administração indireta é composta de autarquias, fundações, organizações sociais (OS) e Organização da Sociedade Civil de Interesse Coletivo (OSCIP).
  - (E) Os órgãos Públicos possuem personalidade jurídica própria e são criados por lei.
- 56.** São princípios constitucionais da administração pública:
- (A) isonomia, publicidade, iniciativa popular, adstrição e eficiência.
  - (B) proporcionalidade, razoabilidade, devido processo legal, isonomia e discricionariedade.
  - (C) moralidade, impessoalidade, racionalidade, modicidade e legalidade.
  - (D) impessoalidade, moralidade, legalidade, publicidade e eficiência.
  - (E) probidade, discricionariedade, razoabilidade, modicidade e impessoalidade.
- 57.** No que concerne à Administração Pública indireta, assinale a alternativa correta.
- (A) As autarquias são entidades administrativas autônomas, criadas por lei específica, com personalidade jurídica de direito privado, patrimônio e receita próprios, para exercer atividades atípicas da Administração Pública.
  - (B) Por desempenharem atividades atípicas da Administração Pública, as prerrogativas administrativas do Estado não se transmitem às autarquias.
  - (C) As Empresas Públicas são pessoas jurídicas de direito público, integrantes da Administração Indireta, instituídas pelo Poder Público, sob qualquer forma jurídica, mediante autorização de lei específica, com capitais públicos e privados.
  - (D) Sociedades de economia mista são pessoas jurídicas de direito privado, integrantes da Administração Indireta, instituídas pelo Poder Público, mediante lei específica, sob a forma de sociedade limitada, com capitais exclusivamente privados.
  - (E) As fundações públicas são entidades integrantes da Administração Indireta, com personalidade jurídica própria, voltadas para o desempenho de atividades de caráter social, como assistência social, assistência médica e hospitalar, educação e ensino, pesquisa, atividades culturais etc.
- 58.** Thiago Silva, servidor público do município de Suzano, na condução de uma viatura da prefeitura, colide na traseira do veículo conduzido por Paulo Santos, que estava parado no sinal vermelho do semáforo. Thiago Silva alega que não conseguiu parar a tempo em razão de falha no sistema de freios do veículo. Em razão da colisão, o veículo de Paulo Santos sofreu avarias de média monta. Diante dessa situação, assinale a alternativa correta.
- (A) Paulo Santos pode ingressar com ação de ressarcimento de danos somente em face de Thiago Silva, identificado como condutor da viatura, que deve responder diretamente pelos danos ocasionados em seu veículo.
  - (B) Paulo Santos não deve ser ressarcido dos danos se restar comprovado que o dano foi ocasionado por falha nos freios, pois se caracteriza o caso fortuito, que é excludente do dever de indenizar.
  - (C) Paulo Santos pode ingressar com ação de ressarcimento de danos em face do Município de Suzano, devendo comprovar o dano e o nexo de causalidade entre a ação do Thiago Silva na condução do veículo e a colisão causadora do dano.
  - (D) Paulo Santos deve ingressar com ação de ressarcimento de danos em face do fabricante do veículo, se comprovado que a colisão foi decorrente da falha mecânica dos freios.
  - (E) O Município de Suzano não responderá pelos danos ocasionados no veículo de Paulo Santos se restar comprovado que não houve falha no sistema de freios do veículo e que o acidente foi ocasionado por culpa do condutor da viatura.
- 59.** Antonia da Silva, na condução de um veículo da prefeitura, estava se dirigindo para buscar o Prefeito de Suzano em sua residência para ir à Prefeitura e, no caminho, o veículo cai em uma buraco causado pela chuva, por distração da condutora ao atender o telefone celular. O veículo da prefeitura teve 2 rodas e 2 pneus danificados. Diante desses fatos, assinale a alternativa correta.
- (A) Como o acidente ocorreu durante o serviço, a servidora não responde pelos danos ocasionados no veículo.
  - (B) Antonia da Silva terá que reparar o veículo da prefeitura, se restar comprovado que o dano foi ocasionado por culpa da servidora e que o buraco estava devidamente sinalizado.
  - (C) O prefeito é quem deve responder pelos danos no veículo, eis que causados por buraco na via pública.
  - (D) Nenhum agente público deve ser responsabilizado pelo dano no veículo, eis que, tendo sido o dano causado por buraco na via, decorrente de chuvas, incide a excludente de responsabilidade de caso fortuito.
  - (E) Se a prefeitura tiver em seu estoque pneus e rodas para substituir os danificados, não restará caracterizado o dano e afastado estará o dever de Antonia da Silva de reparar o dano.

60. Quanto à responsabilidade dos agentes públicos, assinale a alternativa correta.

- (A) O mesmo fato não pode ensejar na responsabilização administrativa sem que haja a responsabilização civil pelo mesmo fato imputado ao servidor público.
- (B) Se houver a condenação penal por um fato, este mesmo fato também deve sempre ensejar a responsabilização administrativa.
- (C) A absolvição penal por ausência de culpabilidade penal não interfere na esfera administrativa.
- (D) A absolvição penal por inexistência do fato não repercute na esfera administrativa.
- (E) Um mesmo ato praticado pelo agente público não pode resultar na responsabilização simultânea nas esferas civil, penal e administrativa, por se caracterizar em *bis in idem*.



