



PREFEITURA MUNICIPAL DE SUZANO

ESTADO DE SÃO PAULO

CONCURSO PÚBLICO

016. PROVA OBJETIVA

CONTADOR

- ◆ Você recebeu sua folha de respostas e este caderno contendo 60 questões objetivas.
- ◆ Confira seus dados impressos na capa deste caderno e na folha de respostas.
- ◆ Quando for permitido abrir o caderno, verifique se está completo ou se apresenta imperfeições. Caso haja algum problema, informe ao fiscal da sala.
- ◆ Leia cuidadosamente todas as questões e escolha a resposta que você considera correta.
- ◆ Marque, na folha de respostas, com caneta de tinta azul ou preta, a letra correspondente à alternativa que você escolheu.
- ◆ A duração da prova é de 3 horas e 30 minutos, já incluído o tempo para o preenchimento da folha de respostas.
- ◆ Só será permitida a saída definitiva da sala e do prédio após transcorridos 75% do tempo de duração da prova.
- ◆ Deverão permanecer em cada uma das salas de prova os 3 últimos candidatos, até que o último deles entregue sua prova, assinando termo respectivo.
- ◆ Ao sair, você entregará ao fiscal a folha de respostas e este caderno, podendo levar apenas o rascunho de gabarito, localizado em sua carteira, para futura conferência.
- ◆ Até que você saia do prédio, todas as proibições e orientações continuam válidas.

AGUARDE A ORDEM DO FISCAL PARA ABRIR ESTE CADERNO DE QUESTÕES.

Nome do candidato _____

Prédio _____

Sala _____

Carteira _____

Inscrição _____

CONHECIMENTOS GERAIS

LÍNGUA PORTUGUESA

01. Leia a tira, para responder à questão.



(Bill Watterson, *Tiras do Calvin*. Disponível em: <www.aprendizdeescritor.com.br>. Acesso em: 27 jan 2016)

Sabendo-se que a frase citada por Calvin é atribuída a Karl Marx, é correto afirmar que o efeito de sentido da tira está na ideia de que

- (A) a televisão faz apologia de drogas, tais como o ópio, à população, independentemente dos protestos da religião.
- (B) as drogas ainda não eram consumidas pela população mundial quando a frase citada foi escrita.
- (C) a televisão é o que exerce ação hipnótica sobre as faculdades intelectuais das pessoas.
- (D) a religião sinalizava o perigo da televisão, embora Marx não tivesse afirmado isso.
- (E) o ópio entorpece o povo, impedindo-o de apreciar o que há de bom atualmente na televisão.

Leia o texto, para responder às questões de números 02 a 08.

Mesmo os pouco observadores devem ter notado um novo aparelho na temporada de férias. Tecnologia de ponta? Só no sentido mais estritamente literal.

Neste ano, o “pau de selfie”, monopé que permite tirar autorretratos, conquistou o mercado dos viajantes. Não deixará de surpreender que em pleno 2015 o homem tenha redescoberto a utilidade tecnológica de um bastão.

Na pré-história, o homem vagou pelos bosques apoiando-se nele; milhares de anos depois, a moda volta, de forma distorcida: o instrumento que servia para conectar o homem com o que estava sob seus pés – a terra – e o apoiava, literalmente, para abrir passo pelo mundo se converteu em uma ligação com o mundo superior. Se eu não me vejo, como sei que existo? Esse novo cajado nos permite uma perspectiva aérea da existência.

O filósofo alemão Peter Sloterdijk explica que aquilo que nós entendemos por tecnologia é uma tentativa de substituir os sistemas imunológicos implícitos por sistemas imunológicos explícitos.

Em nossa época, os sistemas de defesa que criamos procuram nos isolar de um exterior que se nega a ceder à tendência individualista da sociedade. Por isso andamos de um lugar a outro sem renunciar nunca a nosso mundo: nos transformamos em uma sociedade de caranguejos-eremitas, carregando no lombo nossas casas. Sentados entre centenas de passageiros, nos protegemos, com nossos fones de ouvidos, celulares e vídeos, do encontro com o exterior. Agora, o “pau de selfie” nos permite tirar fotos sem a incômoda necessidade de interagir com estranhos. Nos transformamos em seres autossuficientes e, em decorrência disso, necessariamente antissociais.

A máxima ironia do mundo globalizado é a crescente insularidade do indivíduo. Como o exterior é impessoal, nos embrenhamos no interior; como a comunidade nos debilita, a individualidade se torna preponderante; é assim que a casa familiar dá lugar ao apartamento individual – e a autogamia moderna surge.

O fenômeno do “selfie” responde a essa condição insular e por isso se arraigou como a manifestação estética da revolução digital. O isolamento do indivíduo é tal que, liberto do voyeurismo*, teve de conceber um autovoyeurismo: nos tornamos paparazzi* de nós mesmos. O “selfie” procura esconder nossa natureza isolada e solitária sob o verniz da felicidade e do gozo.

(Emilio Lezama, *Paparazzi de nós mesmos*. *Folha de S.Paulo*, 30-08-2015. Adaptado)

***Voyeurismo**: forma de curiosidade mórbida com relação ao que é privativo, privado ou íntimo.

***Paparazzi**: fotógrafos que perseguem celebridades, para bater fotos indiscretas.

02. Na passagem – Tecnologia de ponta? Só no sentido mais estritamente literal. –, o autor faz referência ao sentido literal


- (A) para destacar a criatividade do novo objeto da temporada, especialmente pela sofisticação de seu emprego.
- (B) como ironia para expor a simplicidade da concepção do “pau de selfie”, por associação com a forma e o uso do objeto.
- (C) como reverência às modernas tecnologias de informática, destacando a relevância do “pau de selfie”.
- (D) como forma de identificar-se aos usuários das tecnologias digitais que são moda nas temporadas de férias.
- (E) para expor um ponto de vista favorável à utilidade do objeto nas mais variadas situações de uso.

03. Com a frase – Se eu não me vejo, como sei que existo? – o autor destaca, em tom irônico,
- (A) a irracionalidade dos meios digitais que levam o sujeito a enxergar-se como parte indissociável do grupo a que pertence.
 - (B) o gosto da autocontemplação como forma de anular o indivíduo, lançando-o na massa dos viciados em tecnologias.
 - (C) o sentimento de participação do sujeito, alcançado graças à globalização, que unifica interesses e gostos.
 - (D) o individualismo decorrente da adoção de mídias que favorecem o descolamento do sujeito do meio que o cerca.
 - (E) a presença de novos valores, que substituem a supremacia da razão pela demanda de objetos de satisfação da coletividade.
04. Assinale a alternativa em que existe, nesta ordem, um par de termos antônimos, como em **implícitos e explícitos** (I), e um par de termos sinônimos, como em **preponderante e dominante** (II).
- (A) ceder e resistir (I) / debilita e esmorece (II).
 - (B) isolamento e comunidade (I) / insularidade e insatisfação (II).
 - (C) incômoda e maçante (I) / liberto e cativo (II).
 - (D) conectar e desligar (I) / carreando e acareando (II).
 - (E) estritamente e contritamente (I) / suficiência e abastança (II).
05. Assinale a alternativa cujos verbos estão corretamente conjugados e cujos pronomes estão colocados na frase de acordo com a norma-padrão.
- (A) Talvez transformemos-nos em uma sociedade de caranguejos-eremitas, que carrea no lombo as casas.
 - (B) Provavelmente com isso nos mantêssemos protegidos do encontro com o exterior.
 - (C) Se eu nunca me vir, como saberei que outros me verão e intervirão, se necessário?
 - (D) ...como a comunidade debilitará-nos, até a individualidade se desfará.
 - (E) Nos tornaremos seres autossuficientes se nos dispormos ao isolamento?
06. A alternativa que se caracteriza pelo emprego das palavras destacadas em sentido figurado é:
- (A) Neste ano, o “**pau de selfie**”, **monopé** que permite tirar autorretratos, conquistou o mercado dos viajantes.
 - (B) Agora, o “pau de selfie” nos permite tirar fotos sem a **incômoda** necessidade de interagir com **estranhos**.
 - (C) Por isso **andamos** de um lugar a outro sem renunciar nunca a nosso **mundo**...
 - (D) Mesmo os pouco **observadores** devem ter notado um novo aparelho na **temporada** de férias.
 - (E) ... nos transformamos em uma **sociedade de caranguejos-eremitas**, carreando no lombo nossas casas.
07. Na passagem – O isolamento do indivíduo é tal que, liberto do voyeurismo, **teve de conceber um autovoyeurismo**... – o trecho destacado expressa, em relação ao que o antecede, a ideia de
- (A) finalidade.
 - (B) restrição.
 - (C) explicação.
 - (D) consequência.
 - (E) modo.
08. Assinale a alternativa que reescreve trecho da passagem a seguir sem prejuízo de sentido e com pontuação de acordo com a norma-padrão.
- Como o exterior é impessoal, nos embrenhamos no interior; como a comunidade nos debilita, a individualidade se torna preponderante; é assim que a casa familiar dá lugar ao apartamento individual – e a autogamia moderna surge.
- (A) Embrenhamo-nos no interior porque o exterior é impessoal, e a individualidade se torna preponderante visto que a comunidade nos debilita.
 - (B) A autogamia moderna surge, portanto, a casa familiar dá lugar, ao apartamento.
 - (C) Dado que nos embrenhamos no interior, o exterior é impessoal e a comunidade nos debilita, pois a individualidade, se torna preponderante.
 - (D) É assim que a casa familiar dá lugar ao apartamento individual, contanto, que a autogamia moderna surja.
 - (E) O exterior é impessoal embora nos embrenhemos no interior. A individualidade se torna preponderante apesar, de a comunidade, nos debilitar.

09. Assinale a alternativa que apresenta concordância nominal e verbal de acordo com a norma-padrão.

- (A) Já recebi bastante apelidos pejorativos, como “go-leiro de pebolim” e outros que o recato me impedem de mencionar.
- (B) Em alguns desses tantos cadastros que se faz no comércio, a atendente me disse que era preciso colocar anexo uma foto recente.
- (C) Foi preciso pedir emprestado ao colega as requisições de compras, pois ali não se encontravam nenhuma delas.
- (D) Entendi que bastavam eles fazerem o depósito até meio-dia e meio, para que não houvesse problemas.
- (E) É necessário paciência para ouvir o que mais de um reclamante tem a dizer acerca do atraso no atendimento.

10. Leia a tira, para responder à questão.



(Bill Watterson, Tiras do Calvin. Disponível em: <www1.folhaol.com.br>. Acesso em: 26 jan 2016)

A alternativa que preenche, correta e respectivamente, as lacunas do texto é:

- (A) Porque ... do que ... manter ... a
- (B) Por que ... a ... mantiver ... em
- (C) Por que ... à ... mantivesse ... em
- (D) Porque ... do que ... mantinha ... a
- (E) Por que ... à ... manter ... em

11. Do valor total de uma multa recebida após uma fiscalização tributária, uma empresa pagou $\frac{2}{5}$ e teve, anistiados,

$\frac{2}{5}$ do valor que restou. Se a empresa ainda deve pagar

R\$ 8.100,00 para quitar essa multa, então o valor original da multa recebida era

- (A) R\$ 18.100,00.
- (B) R\$ 20.400,00.
- (C) R\$ 22.500,00.
- (D) R\$ 26.300,00.
- (E) R\$ 30.200,00.

12. A caminhada diária de Denis dura exatamente n minutos. Sabe-se que na caminhada de sábado, ele percorreu, em média, 1,2 km a cada 12 minutos, e que, na caminhada de domingo, ele percorreu, em média, 1,35 km a cada 15 minutos. Desse modo, é correto afirmar que a distância percorrida por Denis no domingo correspondeu, da distância percorrida no sábado, a:

- (A) $\frac{5}{4}$
- (B) $\frac{7}{6}$
- (C) $\frac{12}{13}$
- (D) $\frac{9}{10}$
- (E) $\frac{3}{4}$

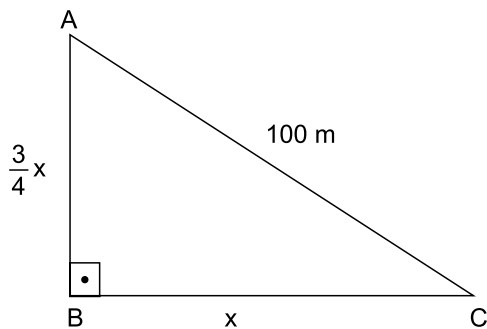
13. Em um município, há dois novos polos industriais, A e B, com 72 e 54 empresas, respectivamente. Para efeito de fiscalização, essas empresas deverão ser totalmente divididas em grupos. Todos os grupos deverão ter o mesmo número de empresas, sendo esse número o maior possível, de modo que cada grupo tenha empresas de um só polo e que não reste nenhuma fora de um grupo. Nessas condições, o número de grupos formados será

- (A) 3.
- (B) 5.
- (C) 6.
- (D) 7.
- (E) 9.

14. Sabe-se que na confecção Sigma, em certo período, a razão do número de peças vendidas da linha feminina para o número de peças vendidas da linha masculina foi de 5 para 3, e que os preços médios unitários de venda das peças femininas e das peças masculinas foram, respectivamente, R\$ 68,00 e R\$ 60,00. Nessas condições, é correto afirmar que o preço médio unitário de todas as peças vendidas (masculinas e femininas), nesse período, foi
- (A) R\$ 66,00.
 - (B) R\$ 65,75.
 - (C) R\$ 65,00.
 - (D) R\$ 64,50.
 - (E) R\$ 64,00.
15. Verificando-se as movimentações ocorridas em uma conta corrente empresarial em um determinado período, constatou-se que o resultado da soma de todos os valores creditados e debitados tinha sido igual a 900 mil reais, e que o valor total creditado tinha superado o valor total debitado em 150 mil reais. A relação entre os valores totais creditados (C) e debitados (D), nesse período, é representada corretamente pela seguinte expressão:
- (A) $D = 0,75 C$.
 - (B) $D = 0,90 C$.
 - (C) $C = 1,15 D$.
 - (D) $C = 1,25 D$.
 - (E) $C = 1,40 D$.
16. Um número natural x , cujo quadrado menos dois terços deste quadrado resulta 12, indica a medida do lado de uma medalha esportiva, de formato quadrado. Nessas condições, o comprimento total do cordão preso à medalha, que corresponde a $12x$, é igual, em centímetros, a
- (A) 78.
 - (B) 72.
 - (C) 70.
 - (D) 66.
 - (E) 60.

17. Rafael comprou um imóvel por um determinado valor, e gastou uma quantia correspondente a 20% desse valor na reforma dele. Posteriormente, ele vendeu esse imóvel por R\$ 360.000,00, obtendo um lucro correspondente a 50% dos valores da compra e da reforma, somados. Nesse caso, é correto afirmar que o valor gasto por Rafael, na reforma desse imóvel, foi igual a
- (A) R\$ 48.000,00.
(B) R\$ 40.000,00.
(C) R\$ 36.000,00.
(D) R\$ 30.000,00.
(E) R\$ 28.000,00.

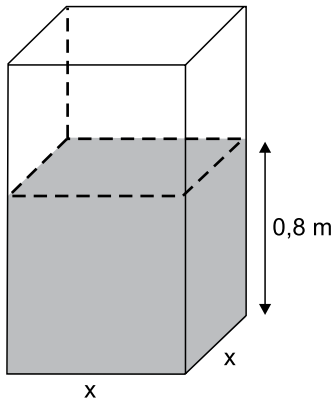
18. Em uma praça com a forma de um triângulo retângulo, a medida do lado \overline{AB} é igual a $\frac{3}{4}$ da medida do lado \overline{BC} , e o lado \overline{AC} mede 100 metros, conforme mostra a figura.



Nessas condições, é correto afirmar que a área dessa praça é igual, em m^2 , a

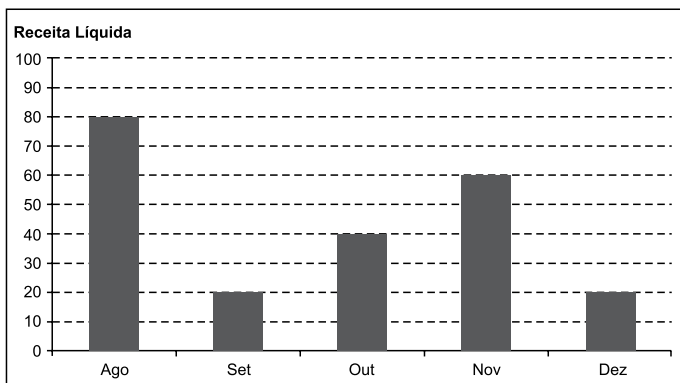
- (A) 2 400.
(B) 2 800.
(C) 3 200.
(D) 3 600.
(E) 4 800.

19. Uma torneira, com vazão constante de $0,02 \text{ m}^3$ por minuto, foi acionada para encher um reservatório com formato de um prisma reto retângulo de base quadrada e paredes de espessura desprezível, inicialmente vazio. Em 1 h 30 min, a altura do nível da água no reservatório atingiu $0,8 \text{ m}$, conforme mostra a figura.



O perímetro da base desse reservatório é igual, em metros, a

- (A) 6,0.
 (B) 5,6.
 (C) 5,2.
 (D) 4,8.
 (E) 4,4.
20. O gráfico mostra a Receita Líquida (RL) mensal, em milhões de reais, de certa empresa nos últimos cinco meses de 2015.



Sabe-se que, nesse período, o Lucro Líquido (LL) médio mensal foi de $6,6$ milhões de reais. O índice que mostra corretamente a relação $\frac{LL_{total}}{RL_{total}}$, no período considerado, é de

- (A) 0,185.
 (B) 0,18.
 (C) 0,17.
 (D) 0,165.
 (E) 0,15.

21. Governo anuncia medidas adicionais para alcançar o reequilíbrio fiscal e melhorar as contas para 2016.

(blog do Planalto. <http://goo.gl/CXelZP>, 14.09.2015)

Foram propostas para a diminuição de despesas e o aumento da arrecadação, respectivamente,

- (A) o adiamento do reajuste dos salários dos servidores públicos federais e a recriação da CPMF com alíquota de 0,2%.
- (B) a interrupção do programa *Minha Casa Minha Vida* e a cobrança de imposto de renda para quem ganha mais de um salário mínimo nacional.
- (C) o corte dos abonos aos salários dos servidores federais dos três poderes e uma nova tabela para a Previdência Social.
- (D) a suspensão de concursos públicos nos níveis municipal, estadual e federal e a ampliação dos benefícios tributários concedidos às empresas.
- (E) o fim do Programa de Aceleração do Crescimento e a criação de imposto sobre as grandes fortunas e os lucros bancários.

22. Entre muitos aplausos e lágrimas, ministros de 195 países aprovaram na noite de sábado (12.12) o "Acordo de Paris", primeiro marco jurídico universal de luta contra o aquecimento global. O documento histórico da 21ª Conferência do Clima (COP 21) das Nações Unidas terá caráter "legalmente vinculante", e define, pela primeira vez, um acordo válido para todas as nações.

(*Estadão*. <http://goo.gl/9UJspC>, 15.12.2015)

Esse acordo prevê que

- (A) os países do G5 financiarão sozinhos projetos de adaptação dos efeitos do aquecimento global nos países mais pobres.
- (B) as metas globais de redução da emissão de gases de efeito estufa sejam efetivadas, na ordem de 5% a cada ano até 2030.
- (C) os países desenvolvidos poderão manter os níveis industriais de emissão; os demais ficarão nos níveis pré-industriais.
- (D) os mecanismos de sanção econômica sejam aplicados a países que não respeitarem as metas de emissão definidas em Paris.
- (E) os países deverão organizar estratégias para limitar, a menos de 2 °C, o aumento da temperatura média global.

23. O país anunciou nesta quarta-feira (06.01), em sua emissora de televisão estatal, que realizou seu primeiro teste com uma bomba nuclear de hidrogênio, pouco depois que um terremoto de magnitude 5,1 foi detectado no nordeste do país como consequência da detonação atômica. Este seria o primeiro teste realizado com uma arma termonuclear, cuja detonação é muito mais poderosa que a dos dispositivos atômicos utilizados em seus três experimentos anteriores.

(*Terra*. <http://goo.gl/8ybpvD>. 06.01.2016. Adaptado)

O Conselho de Segurança da ONU condenou fortemente, em reunião neste domingo (07.02), o lançamento de um foguete pelo país. Acredita-se que possa ter sido um teste de um míssil balístico intercontinental.

(*G1*. <http://goo.gl/s2b8HI>, 07.02.2016. Adaptado)

As notícias referem-se

- (A) à China.
- (B) à Coreia do Norte.
- (C) à Índia.
- (D) ao Irã.
- (E) ao Paquistão.

24. A Petrobras voltou ao nível de 1999 no mercado de ações. Os papéis preferenciais da companhia despencaram 7% nesta segunda-feira (18.01), para R\$ 4,80. Ajustado pela inflação, o valor é o menor desde agosto de 1999. Sem considerar a inflação, as ações atingiram o menor patamar desde novembro de 2003.

(*Folha-Uol*. <http://goo.gl/mhy2DR>, 19.01.2016)

Essa situação da Petrobras é explicada

- (A) pelas indenizações pagas pela empresa aos Estados Unidos, pela baixa cambial e pela explosão de plataformas na bacia de Campos.
- (B) pela alta cotação internacional do petróleo, pela mudança na presidência da empresa e pela recessão do país.
- (C) pela volta do Irã como fornecedor ao mercado mundial, pela megacapitalização da empresa e pela valorização do real.
- (D) pela queda do preço do petróleo, pela corrupção revelada na Operação Lava Jato e pelo endividamento da empresa.
- (E) pela concorrência da Venezuela, pelo fracasso da extração do pré-sal na bacia de Santos e pelo fim dos investimentos na empresa.

25. Julian Assange afirmou, nesta sexta-feira (05.02), falando na embaixada do Equador em Londres, que o Reino Unido e a Suécia devem aplicar a decisão do comitê legal da ONU.


“Corresponde agora aos Estados da Suécia e do Reino Unido em seu conjunto implementar o veredicto”, afirmou à imprensa por videoconferência junto a sua equipe de advogados.

(G1. <http://goo.gl/6Rfpx>, 05.02.2016. Adaptado)

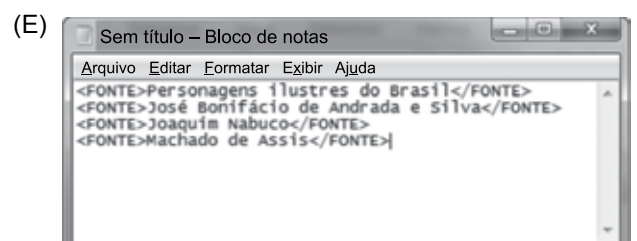
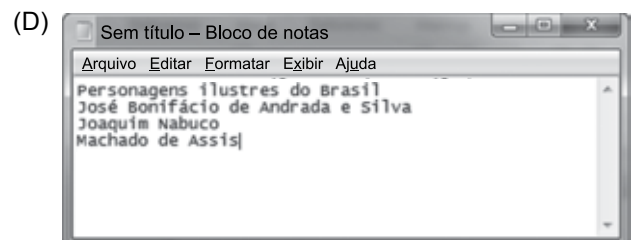
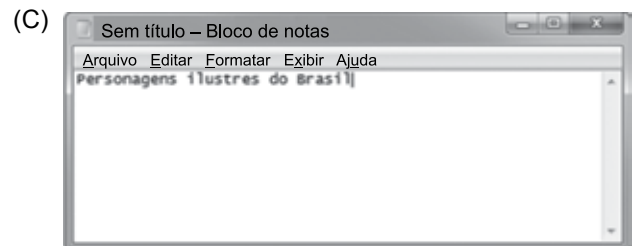
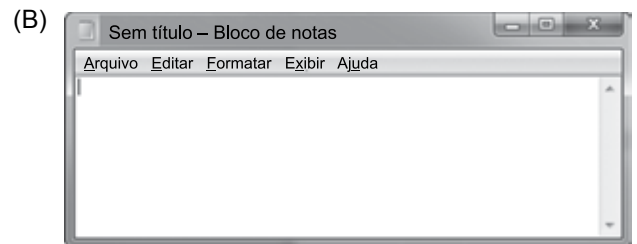
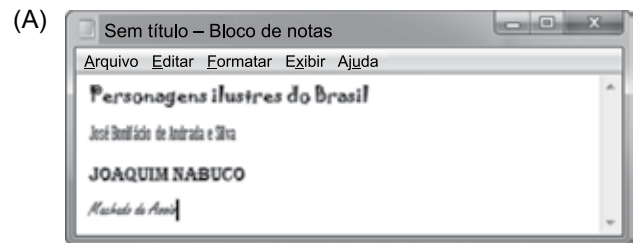
O comitê da ONU

- (A) concluiu que a Suécia e o Reino Unido prejudicaram os negócios de Assange no Equador, ao analisar documentos diplomáticos divulgados pelo site *WikiLeaks*.
- (B) afirmou que Assange foi vítima de perseguição política na Suécia, seu país natal, ao revelar que o governo do país fazia o monitoramento de telefones e dados da internet.
- (C) considerou que Assange foi detido arbitrariamente pelo Reino Unido, que autorizou sua extradição, e pela Suécia, onde ele é investigado por crimes sexuais.
- (D) determinou o pagamento de uma indenização por danos materiais a Assange, por concluir que o Reino Unido impediu que ele continuasse a trabalhar no país como jornalista.
- (E) aprovou a viagem de Assange aos Estados Unidos, onde ele será testemunha no processo contra empresários do Reino Unido e da Suécia acusados de corrupção na Fifa.

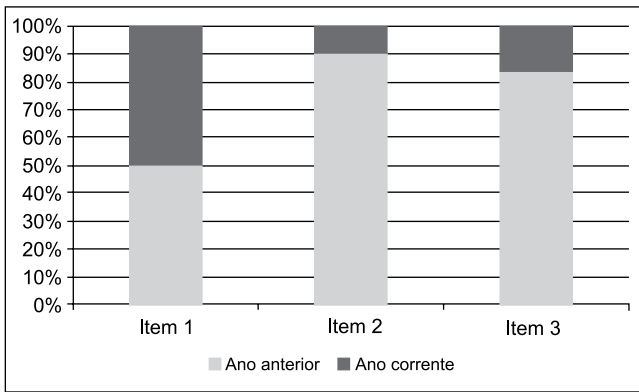
26. Um usuário editou um documento no Microsoft Word 2010, em sua configuração padrão, utilizando-se de diferentes fontes de letra e pressionando ENTER ao final de cada linha, conforme imagem a seguir.



Se o usuário selecionar todas as quatro linhas, pressionar CTRL+C, abrir o bloco de notas do Windows 7, em sua configuração original, e pressionar CTRL+V, o resultado será o seguinte:



27. Assinale a alternativa que apresenta o nome correto do gráfico a seguir, criado no Microsoft Excel 2010, em sua configuração padrão.



- (A) Barras empilhadas
- (B) Área
- (C) Colunas 100% empilhadas
- (D) Dispersão XY
- (E) Superfície

28. No Microsoft Word 2010, em sua configuração padrão, um documento com as margens superior e inferior contendo 2,5 cm, e esquerda e direita com 3 cm, tem a aparência a seguir:



Se um usuário configurar as margens como superior com 15 cm, inferior 2,5 cm, esquerda 10 cm e direita 3 cm, a aparência será da seguinte forma:

- (A)
- (B)
- (C)
- (D)
- (E)

29. Tem-se a planilha a seguir criada no Microsoft Excel 2010, em sua configuração original.

	A	B	C	D
1	1	1	1	
2	1	1	1	
3	1	1	1	
4				
5	9			
6				

Assinale a alternativa que apresenta a fórmula correta que foi aplicada na célula A5 para gerar o resultado 9.

- (A) =CONT.SE(A1:C3;">1")
- (B) =MÁXIMO(A1:C3)
- (C) =SOMASE(A1:C3)
- (D) =MÍNIMO(A1:C3)
- (E) =CONTAR(A1:C3)

30. Um usuário abriu o navegador de Internet Microsoft Internet Explorer 11, em sua configuração original, e acessou o site Google na única aba existente. Depois, na mesma aba, acessou o site da Vunesp. Clicou no link *Quem somos*, que carrega uma página HTML de informações da Vunesp, mantendo a tecla CTRL pressionada e depois clicou no botão *Voltar* do navegador. Assinale a alternativa que apresenta o resultado correto desta última ação.

- (A) O navegador retornou para a página principal do site da Vunesp.
- (B) O navegador retornou para a página do Google.
- (C) O navegador foi encerrado.
- (D) Não aconteceu nada, pois o botão *Voltar* estava inativo.
- (E) O navegador abriu a aba *Quem somos*.

CONHECIMENTOS ESPECÍFICOS

DIREITO CONSTITUCIONAL

31. Nos termos da Constituição Federal, compete aos Municípios instituir impostos sobre
- (A) transmissão causa mortis e “inter vivos”, a qualquer título, por ato oneroso, de bens imóveis, por natureza ou acessão física, e de direitos reais sobre imóveis, assim como doação de quaisquer bens ou direitos.
 - (B) transmissão “inter vivos”, a qualquer título, por ato oneroso, de bens imóveis, por natureza ou acessão física, e de direitos reais sobre imóveis, exceto os de garantia, bem como cessão de direitos a sua aquisição.
 - (C) operações relativas à circulação de mercadorias e sobre prestações de serviços de transporte interestadual e intermunicipal e de comunicação, ainda que as operações e as prestações se iniciem no exterior.
 - (D) operações de crédito, câmbio e seguro, ou relativas a títulos ou valores mobiliários, circulação de mercadorias e sobre prestações de serviços de transporte interestadual e intermunicipal e de comunicação.
 - (E) produtos industrializados, operações relativas à circulação de mercadorias e sobre prestações de serviços de transporte interestadual e intermunicipal e de comunicação.
32. Nos termos da Constituição Federal, a fiscalização contábil, financeira, orçamentária, operacional e patrimonial da União e das entidades da administração direta e indireta, no que tange à legalidade, legitimidade, economicidade, aplicação das subvenções e renúncia de receitas, será exercida
- (A) pelo Congresso Nacional, mediante controle externo, e pelo sistema de controle interno de cada Poder.
 - (B) pelo Supremo Tribunal Federal, somente por meio do controle externo, e pelo sistema de controle interno de cada Poder.
 - (C) pelo Senado Federal, somente por meio do controle interno, e pelo sistema de controle externo de cada Poder.
 - (D) pela Câmara dos Deputados, mediante controle externo, e pelo sistema de controle interno de cada Poder.
 - (E) pela Procuradoria Geral da Fazenda Nacional, mediante controle externo, e pelo sistema de controle interno de cada Poder.

33. Nos termos da Constituição do Estado de São Paulo (Fiscalização Contábil, Financeira e Orçamentária), o controle externo, a cargo da Assembleia Legislativa, será exercido com auxílio do Tribunal de Contas do Estado, ao qual compete
- (A) apreciar as contas prestadas semestralmente pelo Governador do Estado, mediante parecer prévio que deverá ser elaborado em sessenta dias, a contar do seu recebimento.
 - (B) sustar, se não atendido, a execução do ato impugnado, comunicando a decisão ao Tribunal de Justiça.
 - (C) apreciar, para fins de registro, a legalidade dos atos de admissão de pessoal, a qualquer título, na administração direta e autarquias, empresas públicas e empresas de economia mista, excluídas as fundações instituídas ou mantidas pelo Poder Público.
 - (D) avaliar a execução das metas previstas no plano plurianual, nas diretrizes orçamentárias e no orçamento anual.
 - (E) apreciar, para fins de registro, a legalidade dos atos de admissão de pessoal, a qualquer título, apenas da administração direta.

LEGISLAÇÃO ESPECÍFICA

34. No que respeita ao balanço patrimonial, segundo o regimento estabelecido pela Lei nº 4.320/64, é correto afirmar que os créditos e valores realizáveis, independentemente de autorização orçamentária, e os valores numerários são compreendidos no
- (A) ativo permanente.
 - (B) ativo financeiro.
 - (C) saldo patrimonial.
 - (D) passivo permanente.
 - (E) passivo financeiro.
35. Segundo a lei que estabelece normas de finanças públicas voltadas para a responsabilidade na gestão fiscal, o Poder Executivo da União promoverá, até o dia 30 de junho, a consolidação, nacional e por esfera de governo, das contas dos entes da Federação relativas ao exercício anterior, e a sua divulgação, inclusive por meio eletrônico de acesso ao público. No caso dos Municípios, as contas serão encaminhadas ao Poder Executivo da União até o dia
- (A) 15 de março.
 - (B) 30 de março.
 - (C) 30 de abril.
 - (D) 15 de maio.
 - (E) 15 de junho.
36. Para os fins aos quais se destina a Lei nº 8.666/93, considera-se execução indireta aquela em que o órgão ou entidade contrata sob determinados regimes que especifica. Quando se ajusta mão de obra para pequenos trabalhos por preço certo, com ou sem fornecimento de materiais, o regime de contratação denomina-se
- (A) empreitada por preço global.
 - (B) empreitada por preço unitário.
 - (C) empreitada integral.
 - (D) tarefa.
 - (E) concessão.

37. De acordo com a Lei nº 10.028/00, deixar de expedir ato determinando limitação de empenho e movimentação financeira, nos casos e condições estabelecidos em lei, constitui
- (A) infração administrativa contra as leis de finanças públicas, a ser processada e julgada pelo Tribunal de Contas a que competir a fiscalização contábil, financeira e orçamentária da pessoa jurídica de direito público envolvida.
 - (B) crime contra a ordem tributária a ser processado e julgado pelo Tribunal de Justiça do Estado a quem competir.
 - (C) crime contra a ordem econômica a ser processado e julgado pelo Superior Tribunal de Justiça.
 - (D) infração administrativa contra a ordem financeira e tributária a ser processada e julgada pelo Poder Legislativo Federal, por se tratar de questão orçamentária.
 - (E) crime contra a lei de responsabilidade fiscal a ser processado e julgado pelo Supremo Tribunal Federal em razão de sua competência originária para punir condutas oriundas da gestão de recursos públicos.

CONTABILIDADE GERAL

38. Com base no balanço patrimonial em 31 de dezembro de 2015 da empresa Constrói Tudo S.A., responda à questão, levando em consideração apenas duas casas decimais, após a vírgula, bem como o critério de arredondamento.

Ativo	Reais	Passivo	Reais
Circulante		Circulante	
Caixa e equivalentes de caixa	1.079	Financiamentos e empréstimos	20.138
Contas a receber de clientes	25.198	Fornecedores	14.534
Estoques	18.926	Impostos e contribuições a recolher	14.668
Partes relacionadas	13.104	Provisão para contingências	11.100
Impostos a recuperar	3.968	Partes Relacionadas	7.452
Outras contas a receber	1.205	Salários e férias a pagar	2.722
	<hr/>	Outras contas a pagar	5.435
	63.480		<hr/>
			76.049
Não circulante		Não circulante	
Realizável a longo prazo		Partes Relacionadas	2.390
Imposto de renda e contribuição social diferidos	33.570	Provisão para contingências	8.042
Depósitos judiciais	14.015	Provisão para planos de pensão	5.293
Outros créditos	4.190	Imposto de renda e contribuição social diferidos sobre reavaliação	4.671
	<hr/>	Outras contas a pagar	2.650
	51.775		<hr/>
			23.046
Permanente		Patrimônio líquido	
Investimento Imobilizado	52.400	Capital social	100.000
Intangível	2.203	Reservas de capital	30.000
	<hr/>	Reservas de reavaliação	13.603
	205.053	Prejuízos acumulados	77.610
	<hr/>		<hr/>
			221.213
	<u>320.308</u>		<u>320.308</u>

Assinale a alternativa que demonstre o índice de endividamento geral.

- (A) 29,35%.
- (B) 29,83%.
- (C) 30,94%.
- (D) 31,50%.
- (E) 32,00%.

39. De acordo com a Lei nº 6.404/76, art.176, deverão ser elaboradas as demonstrações financeiras ao final de cada exercício social, com base na escrituração mercantil da companhia. Todavia, não será obrigada à elaboração e publicação da demonstração dos fluxos de caixa a Companhia
- (A) que optar por apresentar opcionalmente a demonstração das origens e aplicações de recursos.
- (B) não considerada de grande porte, com faturamento inferior a R\$ 300 milhões.
- (C) S.A. de capital aberto, com faturamento inferior a R\$ 240 milhões.
- (D) fechada com patrimônio líquido, na data do balanço, inferior a R\$ 2 milhões.
- (E) de capital aberto, porém com ações somente negociadas em balcão.

Analise as contas contábeis incluídas no balancete da Empresa Balanço Tudo S.A., extraído da contabilidade em 31 de dezembro de 2015, classificando-as de forma a responder às questões de números 40 e 41.

Descrição da conta contábil	Reais
Ajuste de avaliação patrimonial	(15.000,00)
Outras despesas operacionais	15.000,00
Receitas de vendas	(205.000,00)
Demais contas a receber	8.000,00
Fornecedores	(45.000,00)
Empréstimos bancários	(50.000,00)
Provisão para devedores duvidosos	(12.500,00)
Deduções de vendas	28.000,00
Estoques de revenda	80.000,00
Contas a pagar	(4.000,00)
Investimentos	20.000,00
Impostos a recolher	(8.000,00)
Ativos intangíveis	8.000,00
Contingências trabalhistas de LP	(15.500,00)
Caixa e Equivalentes de Caixa	25.000,00
CPV	85.000,00
Títulos a receber de LP	5.000,00
Salários a pagar	(9.000,00)
Capital	(80.000,00)
Contas a receber de clientes	125.000,00
Imobilizado	65.000,00
Reservas de capital	(75.000,00)
Despesas operacionais	63.000,00
Imposto de renda e contribuição social sobre o lucro líquido correntes	5.000,00
Depreciação acumulada	(13.000,00)

40. Após o encerramento das contas do resultado e considerando que não houve distribuição de lucro, é correto afirmar que o valor do patrimônio líquido da empresa Balanço Tudo S.A., em Reais, é
- (A) 125.000.
- (B) 145.000.
- (C) 154.500.
- (D) 168.000.
- (E) 179.000.

41. É correto afirmar que o lucro bruto atingiu a importância, em Reais, de
- (A) 85.000.
- (B) 92.000.
- (C) 104.000.
- (D) 177.000.
- (E) 181.000.

AUDITORIA

42. É correto afirmar que os testes que visam à obtenção de evidência quanto à suficiência, à exatidão e à validade dos dados produzidos pelos sistemas de informação da entidade são denominados testes
- (A) de revisão analítica.
- (B) de observância.
- (C) de investigação.
- (D) substantivos.
- (E) de inspeção.

43. Assinale a alternativa correta, considerando as Normas de Auditoria.
- (A) No que tange à comunicação de deficiências, o objetivo do auditor é comunicar apropriadamente, aos responsáveis pela governança e à administração, as deficiências de controle interno que o auditor identificou durante a auditoria e que, no seu julgamento profissional, são de importância suficiente para merecer a atenção deles.
 - (B) “Trabalho de asseguarção” significa um trabalho no qual o auditor independente expressa uma conclusão objetivando a certificação de critérios ou métricas utilizadas pela administração de uma entidade na elaboração de alguma informação relevante ao público-alvo.
 - (C) A determinação de materialidade pelo auditor é uma questão sistêmica, ou seja, trata-se do uso de ferramentas que estabeleçam os índices aceitáveis de materialidade, que não pode ser afetada pela percepção do auditor quando das necessidades de informações financeiras dos usuários das demonstrações contábeis.
 - (D) A documentação de auditoria serve, dentre várias finalidades, para permitir a condução de inspeções internas em conformidade com as exigências da firma de auditoria, regulamentares e outras exigências aplicáveis.
 - (E) O objetivo precípua do evento subsequente, após o fechamento dos trabalhos de auditoria de campo, é a compilação das informações e evidências suficientes para formação da opinião do auditor, bem como para a construção do relatório de auditoria a ser comunicado apropriadamente à administração e aos responsáveis pela governança, incluindo os conselhos de administração e fiscal.
44. O auditor externo, ao não receber a resposta a uma carta de confirmação remetida a fontes externas, deverá imediatamente, caso a resposta à solicitação não seja indispensável para a execução dos trabalhos,
- (A) executar procedimentos alternativos de auditoria para obter evidência de auditoria relevante e confiável.
 - (B) incluir um parágrafo de ênfase no parecer de auditoria.
 - (C) encaminhar a carta de confirmação a outra fonte externa alternativamente.
 - (D) incluir o assunto em pauta na cédula de discussão com a administração.
 - (E) executar procedimentos de revisão analítica como fonte alternativa da falta de fonte independente da informação requerida.
45. “Representa(m) os resultados a serem alcançados para variáveis fiscais visando atingir os objetivos desejados pelo ente da Federação quanto à trajetória de endividamento no médio prazo. Pelo princípio da gestão fiscal responsável, as metas representam a conexão entre o planejamento, a elaboração e a execução do orçamento. Esses parâmetros indicam os rumos da condução da política fiscal para os próximos exercícios e servem de indicadores para a promoção da limitação de empenho e de movimentação financeira”.
- Esse texto trata do conceito de
- (A) metas financeiras.
 - (B) metas fiscais.
 - (C) metas orçamentárias.
 - (D) cumprimento de metas de arrecadação.
 - (E) controle do fluxo de metas financeiras por operações de crédito.
46. De acordo com as Normas Brasileiras de Contabilidade aplicadas ao setor Público, assinale a alternativa correta.
- (A) O balanço financeiro evidencia as receitas e as despesas orçamentárias, detalhadas em níveis relevantes de análise, confrontando o orçamento inicial e as suas alterações com a execução, demonstrando o resultado orçamentário.
 - (B) O balanço orçamentário evidencia as receitas e despesas orçamentárias, bem como os ingressos e dispêndios extraorçamentários, conjugados com os saldos de caixa do exercício anterior e os que se transferem para o início do exercício seguinte.
 - (C) Demonstração contábil é a técnica contábil que evidencia, em período determinado, as informações sobre os resultados alcançados e os aspectos de natureza orçamentária, econômica, financeira e física do patrimônio de entidades do setor público e suas mutações.
 - (D) Método indireto do fluxo de caixa é o procedimento contábil para elaboração da demonstração dos fluxos de caixa, que evidencia as movimentações de itens de caixa e seus equivalentes, a partir das principais classes de recebimentos e pagamentos brutos.
 - (E) Dependência regimental constitui-se quando uma entidade do setor público necessita de recursos orçamentários de outra entidade para financiar a manutenção de suas atividades, desde que não represente aumento de participação acionária.

47. Um determinado equipamento industrial foi classificado como uma unidade geradora de caixa. Todavia, apresenta uma capacidade produtiva de apenas 50%, devido ao desgaste do equipamento pelo seu uso contínuo, não contribuindo, portanto, com a geração de caixa em sua plenitude. Isso posto, qual é o procedimento adotado nesse caso, considerando as normas contábeis vigentes?

- (A) Reavaliar o ativo e reconhecer a diferença da avaliação, não importando que seja negativa ou positiva a reavaliação, nos resultados abrangentes.
- (B) Aumentar a taxa de depreciação do equipamento, de forma que o seu valor residual esteja em consonância com a sua produtividade.
- (C) Desativar o referido equipamento, uma vez que é impossível o alcance da produtividade esperada para a unidade geradora de caixa.
- (D) Determinar o valor recuperável do referido ativo e proceder ao ajuste por *impairment*.
- (E) Determinar o valor de realização do ativo, baseando-se na premissa de baixa produtividade, e realizar o equipamento por esse valor.

48. O Plano de Contas Aplicado ao Setor Público representa uma das maiores conquistas da contabilidade aplicada ao setor público. Trata-se de uma ferramenta para a consolidação das contas nacionais, bem como um instrumento para a adoção das normas internacionais de contabilidade.

Baseado nessa padronização, o registro contábil na hipótese de Fixação da Despesa – Natureza orçamentária – estaria representado pelo seguinte lançamento contábil:

- (A) D. Dotação orçamentária / Crédito inicial – 5.2.2.1.1.xx.xx
C. Crédito disponível – 6.2.2.1.1.xx.xx
- (B) D. Previsão inicial da despesa / Crédito inicial – 5.1.2.1.1.xx.xx
C. Despesa a realizar – 6.1.2.1.1.xx.xx
- (C) D. Dotação inicial / Crédito orçamentário – 5.2.1.1.1.xx.xx
C. Provisão inicial – 6.2.1.1.1.xx.xx
- (D) D. Empenho fixado / Crédito inicial – 5.1.1.1.1.xx.xx
C. Restos a pagar – 6.1.1.1.1.xx.xx
- (E) D. Dotação financeira / Dotação inicial – 5.3.2.2.1.xx.xx
C. Crédito disponível – 6.3.2.2.1.xx.xx

49. Fatos ocorridos que surgem normalmente de evento não planejado ou de outros não esperados, que dão origem à possibilidade de entrada de benefícios econômicos para uma entidade, são considerados

- (A) passivos contingentes.
- (B) outras contas a receber.
- (C) receitas extraordinárias.
- (D) variações patrimoniais.
- (E) ativos contingentes.

50. A companhia Aplica Tudo Ltda. iniciou suas atividades em dezembro de 2015 e apresentou as seguintes informações:

- no início de suas atividades, os proprietários subscreveram capital em R\$ 100.000,00;
- em janeiro de 2015, os proprietários integralizaram R\$ 60.000,00;
- em fevereiro, a empresa tomou um empréstimo bancário no valor de R\$ 32.000,00, para aquisição de um ativo;
- em março, a empresa adquiriu o ativo no montante de R\$ 50.000,00.

Baseando-se nessas informações, bem como no conceito do fluxo de caixa indireto, pode-se afirmar que, desde o início da Companhia, as atividades

- (A) de financiamento e investimento geraram um caixa líquido de R\$ 42.000,00.
- (B) de investimento consumiram um caixa bruto de R\$ 18.000,00.
- (C) operacionais geraram um caixa de R\$ 60.000,00.
- (D) de financiamento consumiram um caixa de R\$ 50.000,00.
- (E) operacionais geraram um caixa de R\$ 92.000,00.

CONTABILIDADE TRIBUTÁRIA

51. Considere o caso de uma prestação de serviços em que:

- o prestador de serviços não possui empregados;
- o serviço foi prestado pelo sócio proprietário;
- o faturamento no mês imediatamente anterior à prestação de serviço foi inferior a 2 (duas) vezes o limite máximo do salário de contribuição, cumulativamente.

Nesse caso, a contribuição previdenciária incidente sobre os serviços terá o seguinte tratamento:

- (A) será dispensada a retenção da contribuição pelo contratante.
- (B) o contratante reterá 11% a título de contribuição previdenciária.
- (C) a contribuição previdenciária será calculada com base na tabela progressiva, de acordo com o valor da prestação.
- (D) a contribuição previdenciária será recolhida pelo prestador de serviços pela alíquota de 4,5%.
- (E) a contribuição previdenciária será recolhida pelo prestador de serviços, tendo como base as receitas acumuladas trimestralmente.

52. De acordo com a IN 971/09, o limite de recolhimento em documento de arrecadação da contribuição previdenciária é de

- (A) R\$ 5,00.
- (B) R\$ 10,00.
- (C) R\$ 15,00.
- (D) R\$ 20,00.
- (E) R\$ 25,00.

53. Em conformidade com o art. 3º da LC 123/06, para uma empresa obter o enquadramento como empresa de pequeno porte, deverá auferir, em cada ano-calendário, o valor superior a
- (A) R\$ 120.000,00 e igual ou inferior a R\$ 1.200.000,00.
 - (B) R\$ 240.000,00 e igual ou inferior a R\$ 2.400.000,00.
 - (C) R\$ 360.000,00 e igual ou inferior a R\$ 3.600.000,00.
 - (D) R\$ 420.000,00 e igual ou inferior a R\$ 4.200.000,00.
 - (E) R\$ 4.201.000,00 até 78.000.000,00.

54. Assinale a alternativa correta acerca da LC 123/06.

- (A) A empresa de pequeno porte que, no ano-calendário, exceder o limite de receita bruta anual previsto em Lei Complementar pode solicitar o reenquadramento, no mês subsequente à ocorrência do excesso, com efeito somente para o exercício subsequente ao desenquadramento.
- (B) O Simples Nacional implica o recolhimento mensal, conforme art. 13 da LC 123/06, mediante documento único de arrecadação dos impostos: IRPJ, IPI, CSL, COFINS, PIS/PASEP, Contribuição Previdenciária Patronal, ICMS, ISS e IOF.
- (C) Para efeito de cálculo previdenciário, considera-se folha de salários, incluídos encargos, o montante pago, nos 12 (doze) meses anteriores ao do período de apuração, acrescido do 13º salário, bem como o abono de férias, a título de remunerações a pessoas físicas decorrentes do trabalho, incluídas retiradas de pró-labore, acrescidos do montante efetivamente recolhido a título de contribuição patronal previdenciária e para o FGTS.
- (D) Os Estados, o Distrito Federal e os Municípios, no âmbito de suas respectivas competências, poderão estabelecer, na forma definida pelo Comitê Gestor, independentemente da receita bruta recebida no mês pelo contribuinte, valores fixos mensais para o recolhimento do ICMS e do ISS devido por microempresa que aufera receita bruta, no ano-calendário anterior, de até R\$ 120.000,00 (cento e vinte mil reais), ficando a microempresa sujeita a esses valores durante todo o ano-calendário.
- (E) As microempresas e as empresas de pequeno porte optantes pelo Simples Nacional que requeiram a transferência de créditos relativos a impostos ou contribuições abrangidos pelo Simples Nacional entrarão no regime especial de recolhimento, com o acréscimo proporcional do crédito, sem prejuízo para o recolhimento total dos tributos incluídos no Simples.

55. Cobrado(a)(s) por todas as esferas do Estado, tem/têm como fato gerador a atividade da administração pública que regula a prática de ato ou abstenção de fato, em razão de interesse público concernente à segurança, à higiene, à ordem, aos costumes, à disciplina da produção e do mercado, ao exercício de atividades econômicas dependentes de concessão ou autorização do Poder Público, à tranquilidade pública ou ao respeito à propriedade e aos direitos individuais ou coletivos.

O texto trata da cobrança de

- (A) contribuições sociais.
- (B) contribuições de melhoria.
- (C) imposto territorial.
- (D) imposto sobre renda de qualquer natureza.
- (E) taxas.

ADMINISTRAÇÃO ORÇAMENTÁRIA E FINANCEIRA

56. Um determinado estado da federação tem a previsão estimada de arrecadação de R\$ 8 bilhões, de receita de IPVA, decorrente da cobrança desse imposto, nos primeiros meses do exercício de 2016. Esse mesmo estado, por determinação constitucional, deve repassar 50% desse valor aos municípios cujos veículos tenham sido neles licenciados. Dessa forma, pode-se afirmar sobre a seguinte apresentação da lei orçamentária:

ORÇAMENTO DO ESTADO ARRECADADOR:

Receita	R\$-Mil	Despesa	R\$-Mil
IPVA	4.000.000	Transferência aos Municípios	0

- (A) foi obedecida a forma correta de transferência líquida de acordo com o princípio da programação.
- (B) em conformidade com o princípio participativo, o repasse líquido, corretamente apresentado, demonstra a participação dos municípios nas receitas auferidas pela União.
- (C) de acordo com o princípio da programação, o repasse líquido está incorretamente apresentado.
- (D) em atendimento ao princípio do orçamento bruto, a forma de apresentação está incorreta, pois esta foi feita pelo valor líquido.
- (E) em atendimento ao princípio do orçamento bruto, a forma de apresentação está correta, pois esta foi feita pelo valor líquido.

57. Quando a Administração, em um determinado caso concreto, pode apreciá-lo segundo critérios de oportunidade e conveniência, e escolhe uma solução entre duas ou mais, sendo todas as soluções válidas, é correto afirmar que a atuação foi
- (A) discricionária.
 - (B) vinculada.
 - (C) justificada.
 - (D) inconstitucional.
 - (E) ilegal.
58. Há um tipo de orçamento utilizado em países onde impera o poder absoluto, em que a elaboração, a aprovação, a execução e o controle do orçamento são de responsabilidade e competência do poder no qual se concentra, quase exclusivamente, a função administrativa. Esse orçamento é denominado
- (A) misto.
 - (B) jurídico.
 - (C) econômico.
 - (D) legislativo.
 - (E) executivo.
59. Durante as fases da receita orçamentária, o ato da repartição competente, que verifica a procedência do crédito fiscal, quem é a pessoa que lhe é devedora e que inscreve a dívida dela o crédito, ocorre
- (A) na determinação constitucional.
 - (B) no estágio de previsão.
 - (C) no estágio de lançamento.
 - (D) no estágio de arrecadação.
 - (E) no estágio de recolhimento.
60. A despesa de servidor com filho nascido em ano anterior e requerimento do benefício do salário-família ocorrido em exercício seguinte será registrada como
- (A) despesa do exercício ulterior para a qual o orçamento respectivo consignava crédito próprio com saldo suficiente para atendê-la e que não se tenha processado na época própria.
 - (B) despesa de exercício anterior, decorrente de compromisso de obrigação de pagamento criado em virtude de lei e reconhecida após o encerramento do exercício.
 - (C) despesa do exercício ulterior cujo empenho tenha sido considerado insubsistente e anulado no encerramento do exercício correspondente, mas que, dentro do prazo estabelecido, o credor tenha cumprido sua obrigação.
 - (D) restos a pagar com prescrição interrompida.
 - (E) despesa cuja inscrição como restos a pagar tenha sido cancelada, mas ainda vigente o direito do credor.

