



PREFEITURA MUNICIPAL DE SUZANO

ESTADO DE SÃO PAULO

CONCURSO PÚBLICO

004. PROVA OBJETIVA

AGENTE FISCAL DE TRÂNSITO

- ◆ Você recebeu sua folha de respostas e este caderno contendo 50 questões objetivas.
- ◆ Confira seus dados impressos na capa deste caderno e na folha de respostas.
- ◆ Quando for permitido abrir o caderno, verifique se está completo ou se apresenta imperfeições. Caso haja algum problema, informe ao fiscal da sala.
- ◆ Leia cuidadosamente todas as questões e escolha a resposta que você considera correta.
- ◆ Marque, na folha de respostas, com caneta de tinta azul ou preta, a letra correspondente à alternativa que você escolheu.
- ◆ A duração da prova é de 3 horas, já incluído o tempo para o preenchimento da folha de respostas.
- ◆ Só será permitida a saída definitiva da sala e do prédio após transcorridos 75% do tempo de duração da prova.
- ◆ Deverão permanecer em cada uma das salas de prova os 3 últimos candidatos, até que o último deles entregue sua prova, assinando termo respectivo.
- ◆ Ao sair, você entregará ao fiscal a folha de respostas e este caderno, podendo levar apenas o rascunho de gabarito, localizado em sua carteira, para futura conferência.
- ◆ Até que você saia do prédio, todas as proibições e orientações continuam válidas.

AGUARDE A ORDEM DO FISCAL PARA ABRIR ESTE CADERNO DE QUESTÕES.

Nome do candidato _____

Prédio _____

Sala _____

Carteira _____

Inscrição _____

CONHECIMENTOS GERAIS

LÍNGUA PORTUGUESA

Leia o texto de Eugênio Mussak para responder às questões de números **01** a **07**.

Em tempos difíceis como o que estamos vivendo, uma boa dose de otimismo pode nos ajudar a enfrentar as dificuldades do dia a dia. Os otimistas costumam ser mais positivos mesmo diante das adversidades, e, com isso, têm mais chance não só de encontrar meios para sobreviver à crise como de criar alternativas para sair dela.

Reconhecemos os otimistas de algumas maneiras. Uma delas é pelo tempo verbal de seu discurso. Enquanto os pessimistas falam no pretérito, os otimistas preferem falar no futuro. Os pessimistas insistem em ponderar sobre como deveria ter sido. Os otimistas ocupam-se em discorrer sobre como poderá vir a ser.

Outra maneira de diferenciar um pessimista de um otimista é pelo uso do “mas”, palavrinha de três letras muito usada quando dois pensamentos se complementam e parecem ser opostos. Cada vez que você diz “agora faz sol, mas mais tarde vai chover”, ou “minha cabeça dói, mas já vai passar”, está usando uma conjunção, que tem a finalidade de estabelecer ligações.

Voltando ao tema do otimismo e do pessimismo, sabemos que esses dois estados, que demonstram a visão que as pessoas têm da situação em que se encontram, bem como das perspectivas futuras, se refletem no uso dos recursos linguísticos. Ou melhor, na ordem em que se colocam os termos da oração em torno deles. Explico. Uma coisa é dizer: “Eu sei que está ruim, mas vai melhorar”. Outra é afirmar: “Eu sei que vai melhorar, mas que está ruim, está”. As duas frases envolvem exatamente os mesmos elementos em sua construção, a diferença entre elas está no foco.

Há “mas” para todos os gostos. Depende de nós usá-lo para criar um bom ambiente ou para jogar um balde de água fria no ânimo de qualquer um. Quando algo não está bem, como o atual momento econômico, surgem dois pensamentos: o de que tudo vai piorar e o de que, daqui pra frente, só é possível melhorar.

E, já que é assim, proponho o otimismo consciente. Aquele que não nega a realidade, mas que acredita na solução, no recomeço, na recuperação, na melhoria, no crescimento. Nosso país está como está porque fizeram com ele o que fizeram. Mas ele será o que será porque faremos o que faremos. E, neste caso, como diz o ditado, “não tem ‘mas’ nem meio ‘mas’”. Só depende de nós.

(Eugênio Mussak. *Entre o otimismo e o pessimismo*. Disponível em: http://vidasimples.uol.com.br/noticias/pensar/entre-o-otimismo-e-o-pessimismo.phtml#_Vp_EK5orKig, 16.11.2015. Adaptado)

01. Conforme o que afirma o autor do texto, o otimismo

- (A) elimina as dificuldades da vida.
- (B) possibilita encontrar meios para superar os problemas.
- (C) focaliza sempre o pretérito.
- (D) é uma demonstração de falta de consciência.
- (E) é responsável pelos problemas que vivenciamos.

02. De acordo com o texto,

- (A) o pensamento negativo ajuda a enxergar a situação sem idealizações e a tomar as atitudes necessárias para solucionar os problemas.
- (B) uma pessoa otimista é facilmente reconhecida por sua predileção em refletir sobre o que poderia ter sido feito.
- (C) otimismo e pessimismo são estados de ânimo que mostram como determinadas situações são vistas pelas pessoas.
- (D) o otimismo e o pessimismo são determinados por fatores externos ao indivíduo, como o atual momento econômico.
- (E) o otimismo consciente é algo impossível, uma vez que a alienação é condição necessária para pensar positivo diante das adversidades.

03. Nesse texto, o autor afirma que

- (A) é o tempo verbal que determina se a pessoa deve enxergar uma situação com otimismo ou pessimismo.
- (B) as conjunções são recursos amplamente usados pelos pessimistas para refletir sobre o futuro.
- (C) há uma classificação dos recursos linguísticos; alguns servem apenas para os discursos otimistas e outros apenas para os pessimistas.
- (D) o “mas” é muito usado para construir discursos de esperança, por isso é marca característica do discurso otimista.
- (E) os discursos dos otimistas e dos pessimistas podem ter os mesmos elementos, o que muda é a ordem de colocação dos termos e o foco.

04. Com relação à situação atual do Brasil, o autor se mostra

- (A) otimista e propõe que se acredite racionalmente na recuperação do país.
- (B) pessimista e justifica essa posição afirmando que a saída da crise depende de muita gente.
- (C) pessimista, pois ele tem consciência de que a situação atual não é nada boa.
- (D) otimista e acredita que pensamento positivo apresentará a solução para os problemas.
- (E) pessimista e culpa toda nação, inclusive a si mesmo, pela situação em que o país se encontra.

05. Assinale a alternativa em que a conjunção “mas” tenha sido empregada em um contexto que aponta para uma perspectiva positiva e otimista.
- (A) Vivemos tempos tranquilos, mas ainda passaremos por tempos difíceis.
 - (B) O momento é de recessão, mas a crise séria mesmo ainda não chegou.
 - (C) O Brasil já teve economia forte, mas agora as notícias não são animadoras.
 - (D) Nosso país está doente, mas a cura está em nossas mãos.
 - (E) A crise econômica brasileira é grave, mas ainda tende a piorar.
06. As preposições servem para relacionar dois termos de uma mesma oração e estabelecer uma relação de sentido entre eles. Assinale a alternativa em que a expressão destacada é uma preposição com valor de finalidade.
- (A) ... os otimistas preferem falar **sobre** o futuro.
 - (B) Outra maneira de diferenciar um pessimista **de** um otimista...
 - (C) ... o otimista encontra nele os elementos **para** alavancar o futuro.
 - (D) ... envolvem exatamente os mesmos elementos **em** sua construção...
 - (E) Nosso país está como está porque fizeram **com** ele o que fizeram.

Leia o texto de Eça de Queiroz para responder às questões de números 07 a 10.

O pessimismo é uma teoria bem consoladora para os que sofrem, porque desindividualiza o sofrimento, alarga-o até o tornar a lei própria da Vida; portanto lhe tira o carácter doloroso de uma injustiça especial, cometida contra o sofredor por um Destino inimigo e faccioso! Realmente o nosso mal sobretudo nos amarga quando contemplamos ou imaginamos o bem do nosso vizinho – porque nos sentimos escolhidos e destacados para a Infelicidade, podendo, como ele, ter nascido para a Fortuna. Quem se queixaria de ser coxo – se toda a humanidade coxeasse? E quais não seriam os urros, e a furiosa revolta do homem envolto na neve e friagem e borrasca de um Inverno especial, organizado nos céus para o envolver a ele unicamente – enquanto em redor toda a humanidade se movesse na benignidade de uma Primavera? (...) O Pessimismo é excelente para os Inertes, porque lhes atenua o desgraçoso delito da Inércia.

(Eça de Queiroz. *A Cidade e as Serras*)

07. É correto afirmar que os textos de Eugênio Mussak e de Eça de Queiroz
- (A) estabelecem um diálogo ao fazerem considerações sobre o pessimismo.
 - (B) focalizam o comportamento egoísta da humanidade.
 - (C) não se relacionam, pois tratam de temas que não mantêm relação de sentido.
 - (D) fazem considerações sobre o otimismo, mas sob pontos de vista diferentes.
 - (E) elegem pessimismo, otimismo e egoísmo como seus temas.

08. No trecho – ... a furiosa revolta do homem envolto na neve e friagem e borrasca de um Inverno especial, organizado nos céus para o envolver... –, o termo destacado retoma outro termo anteriormente mencionado no trecho. Assinale a alternativa em que o termo destacado desempenha essa mesma função.

- (A) ... portanto lhe tira o carácter pungente de uma injustiça especial...
- (B) ... cometida contra o sofredor por um Destino inimigo e faccioso...
- (C) ... nos amarga quando contemplamos ou imaginamos o bem do nosso vizinho...
- (D) ... desindividualiza o sofrimento, alarga-o até...
- (E) ... porque lhes atenua o desgraçoso delito da Inércia.

09. Assinale a alternativa que identifica corretamente (nos parênteses) a relação de sentido que o termo destacado estabelece na frase.

- (A) **Realmente** o nosso mal sobretudo nos amarga... (afirmação).
- (B) O pessimismo é uma teoria **bem** consoladora... (meio).
- (C) ... **quando** contemplamos ou imaginamos o bem do nosso vizinho... (intensidade).
- (D) E quais **não** seriam os urros, e a furiosa revolta do homem envolto... (modo).
- (E) ... alarga-o **até** o tornar a lei da própria da Vida... (lugar).

10. Assinale a alternativa que substitui, com correção e sentido coerente, as expressões destacadas no trecho – O Pessimismo é excelente para os Inertes, **porque** lhes **atenua** o desgraçoso delito da Inércia.

- (A) seria ... visto que ... atenuaria
- (B) era ... contanto que ... atenuasse
- (C) foi ... assim que ... atenuava
- (D) será ... pois ... atenuasse
- (E) fosse ... desde que ... atenuará

11. Um guarda de trânsito, posicionado em um cruzamento, aplicou em algumas horas 60 multas, sendo 15 delas por avançar no farol vermelho. Sabendo que $\frac{3}{5}$ das multas

restantes foram por parar sobre a faixa de pedestres e as demais por infrações variadas, então, em relação ao total de multas aplicadas, a fração que representa o número de multas por infrações variadas é

- (A) $\frac{1}{5}$
 (B) $\frac{3}{10}$
 (C) $\frac{1}{3}$
 (D) $\frac{3}{5}$
 (E) $\frac{7}{10}$

12. Em um parque, há uma ciclovia que possui ao longo de todo o percurso placas numeradas a cada 500 m, conforme mostra a figura.

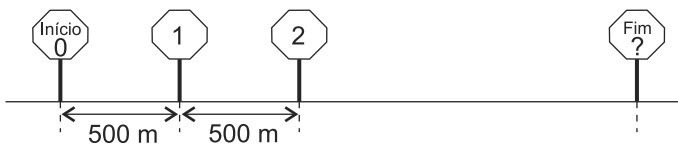


Figura fora de escala

João partiu do início e, após percorrer 3,75 km, constatou que já havia feito $\frac{3}{8}$ do total do percurso. O número que está na placa que indica o fim do percurso é

- (A) 16.
 (B) 17.
 (C) 18.
 (D) 19.
 (E) 20.

13. Uma empresa comprou um lote com menos de 400 fichas para anotações diversas. Um funcionário sugeriu separá-las em grupos, todos com a mesma quantidade de fichas. Ao realizar a tarefa, esse funcionário percebeu que poderia formar grupos, cada um com 15 fichas, ou com 18 fichas ou com 24 fichas, e todas as fichas ficariam agrupadas. No entanto, seu chefe pediu que fossem colocadas 12 fichas em cada grupo. Com isso, o número de grupos que poderão ser formados com 12 fichas em cada um será igual a
- (A) 30.
(B) 28.
(C) 24.
(D) 18.
(E) 16.
14. Em uma caixa, a razão entre o número de envelopes com etiquetas e o número de envelopes sem etiquetas é $\frac{2}{7}$. Após colocar etiquetas em 40 envelopes que estavam sem etiqueta, a razão entre o número de envelopes com etiquetas e o número de envelopes sem etiquetas dessa caixa passou a ser $\frac{4}{5}$. Sabendo que cada envelope possui uma só etiqueta, o número total de envelopes dessa caixa é
- (A) 140.
(B) 160.
(C) 180.
(D) 200.
(E) 220.
15. Em uma empresa com 160 funcionários, 30% saíram de férias e, logo depois disso, dois funcionários entraram em licença médica. Por causa disso, 40% dos demais funcionários foram temporariamente remanejados para outros setores. Em relação ao número total de funcionários dessa empresa, o número de funcionários remanejados representa uma porcentagem de
- (A) 26,0%.
(B) 26,5%.
(C) 27,0%.
(D) 27,5%.
(E) 28,0%.
16. Em uma fábrica, 5 máquinas, todas operando com a mesma capacidade de produção, fabricam um lote de peças em 8 dias, trabalhando 6 horas por dia. O número de dias necessários para que 4 dessas máquinas, trabalhando 8 horas por dia, fabriquem dois lotes dessas peças é
- (A) 11.
(B) 12.
(C) 13.
(D) 14.
(E) 15.

17. A tabela mostra o número de litros de leite das marcas A, B e C, comprados por uma pessoa.

| Marcas | Nº de litros |
|--------|--------------|
| A | 5 |
| B | 3 |
| C | 2 |

Considerando-se o total de litros apresentados na tabela, na média, o litro saiu por R\$ 3,30, porém, se essa pessoa tivesse comprado apenas os leites das marcas A e B, na média, o litro sairia por R\$ 2,95. O valor do litro de leite da marca C é

- (A) R\$ 4,70.
(B) R\$ 4,80.
(C) R\$ 4,90.
(D) R\$ 5,00.
(E) R\$ 5,10.
18. Um capital A, de R\$ 2.500,00, aplicado a juros simples, com taxa mensal de 0,9%, durante 8 meses, rende juros três vezes maior que um capital B, também aplicado a juros simples durante 5 meses, com taxa mensal de 0,8%. A diferença entre os capitais A e B é de
- (A) R\$ 700,00.
(B) R\$ 1.000,00.
(C) R\$ 1.200,00.
(D) R\$ 1.600,00.
(E) R\$ 1.800,00.
19. Uma loja comprou um determinado número de caixas para empacotar um lote de camisetas. Se forem colocadas 30 camisetas em cada caixa, 5 camisetas ficarão de fora, mas se forem colocadas 35 camisetas em cada caixa, todas as camisetas do lote serão empacotadas e duas caixas não serão utilizadas. O número de camisetas desse lote é
- (A) 440.
(B) 445.
(C) 450.
(D) 455.
(E) 460.

20. Em uma praça retangular ABCD, com 50 m de comprimento, foi construído um canteiro retangular PQRS com 8 m de largura, conforme mostra a figura.

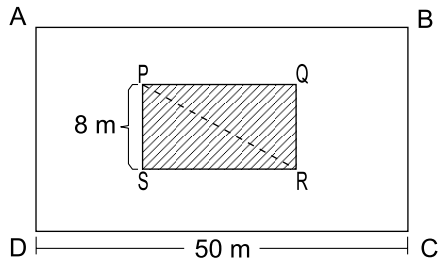


Figura fora de escala

Sabendo que a diagonal \overline{PR} mede 17 m e que o lado \overline{AD} do terreno mede o dobro do lado \overline{RS} do canteiro, então, a área da praça não ocupada pelo canteiro, em m^2 , é

- (A) 1470.
- (B) 1420.
- (C) 1380.
- (D) 1330.
- (E) 1290.

R A S C U N H O

ATUALIDADES

21. A agência de classificação de risco Moody's rebaixou a nota do Brasil e tirou o grau de investimento – selo de bom pagador – do país nesta quarta-feira (24.02).

A primeira a tirar o selo de bom pagador do Brasil foi a Standard and Poor's, em setembro do ano passado. Há uma semana, a agência voltou a rebaixar a nota brasileira. Em dezembro, foi a vez da Fitch.

(G1. <http://goo.gl/9Q2mev>, 24.02.2016. Adaptado)

Esse rebaixamento da nota do Brasil decorreu

- (A) do aumento da dívida pública e da perspectiva de recessão da economia brasileira.
- (B) da aprovação da CPMF no Congresso e do saldo negativo na balança comercial em 2015.
- (C) da redução dos investimentos do BNDES em infraestrutura e da valorização do real.
- (D) do atraso tecnológico das empresas brasileiras e da projeção de aumento do PIB em 2016.
- (E) das sucessivas baixas da taxa Selic e da venda de ações da Petrobras na Bolsa de Nova York.

22. Uma fundação que será criada pelo governo, mas financiada por mineradoras, será a responsável pela recuperação do rio Doce. Segundo a Advocacia-Geral da União, esse órgão, que terá um orçamento estimado em R\$ 20 bilhões, será o principal instrumento de reparação dos impactos ambientais.

(Folha-Uol. <http://goo.gl/5NCVQQ>, 21.01.2016. Adaptado)

Esses “impactos ambientais” foram causados, no final de 2015,

- (A) pela contaminação das águas com detritos industriais, depois da explosão de uma mina no Quadrilátero Ferrífero.
- (B) pela poluição da foz do rio Doce na Bahia, devido ao uso de agrotóxicos na lavoura e de mercúrio na extração de ouro.
- (C) pela presença, na bacia do rio Doce, de resíduos atômicos, em função de uma nova técnica de mineração.
- (D) pela instalação de siderúrgicas e mineradoras estrangeiras ao longo do rio Doce, que derrubaram as matas nativas.
- (E) pelo derramamento de lama com rejeitos, após o rompimento de barragem de uma mineradora em Minas Gerais.

23. Os EUA e a União Europeia anunciaram neste sábado (16.01) a revogação de sanções econômicas em vigor há anos contra o Irã, abrindo caminho para o país persa se integrar à economia mundial.

(Folha-Uol. <http://goo.gl/iITy3b>, 16.01.2016. Adaptado)

Essa decisão foi tomada porque

- (A) os EUA reconheceram que o governo do Irã nunca apoiou o Estado Islâmico.
- (B) a ONU intermediou o acordo de paz entre o governo iraniano e as guerrilhas.
- (C) o Irã cumpriu as obrigações estabelecidas no acordo nuclear de julho de 2015.
- (D) a União Europeia negociou a saída do ditador iraniano há três décadas no poder.
- (E) o Irã comprometeu-se a respeitar as normas da Organização Mundial do Comércio.
24. A Assembleia Nacional rejeitou ontem o decreto de Emergência Econômica com o qual o presidente Nicolás Maduro requisitava poderes especiais para lidar com a grave crise que afeta o país. O líder chavista disse que, com a decisão, a oposição, que tem maioria no Legislativo, “dá as costas ao país”.

(Estadão. <http://goo.gl/Bc9Fjq>, 22.01.2016. Adaptado)

O país a que se refere a notícia é

- (A) a Bolívia.
- (B) a Venezuela.
- (C) o Chile.
- (D) o Equador.
- (E) o Paraguai.
25. A Fundação Oswaldo Cruz (Fiocruz) anunciou nesta sexta-feira (05.02) a detecção do vírus ativo na saliva e na urina. A presença de vírus vivo levanta a hipótese de transmissão por via oral.

Em entrevista, o infectologista David Uip, Secretário da Saúde do Estado de São Paulo, afirma não haver motivo para pânico. “Não devemos mudar a forma de combater a epidemia: o importante é combater o mosquito.”

Os Estados Unidos confirmaram na terça-feira a transmissão do vírus por via sexual em uma pessoa que teve relações com outra, que havia sido infectada pelo vírus em viagem fora do país.

(Época. <http://goo.gl/9cEkCM>, 05.02.2016. Adaptado)

Trata-se do vírus

- (A) ebola, que continua altamente fatal.
- (B) H1N1, causador da dengue hemorrágica.
- (C) da malária, contra o qual não há vacina.
- (D) zika, associado a casos de microcefalia.
- (E) da febre amarela, que predomina na Amazônia.

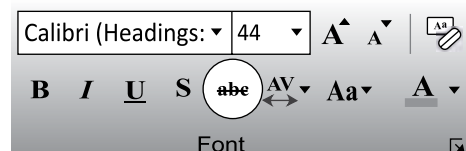
26. No Microsoft Windows 7, em sua configuração padrão, um usuário executou 3 atividades sequenciais conforme descrito:

- I. abriu a calculadora, efetuou uma operação que resultou no valor 1000 e copiou esse valor para a Área de Transferência;
- II. abriu o bloco de notas, digitou um texto e copiou o trecho “atividades para a próxima semana” para a Área de Transferência;
- III. abriu o Windows Explorer, selecionou o arquivo *controle* e pressionou a tecla F2 para renomeá-lo. Mas, em vez disso, pressionou CTRL+C e depois ENTER.

Em seguida, o usuário abriu o Wordpad e pressionou CTRL+V.

O conteúdo a ser colado para o documento no Wordpad será

- (A) controle
- (B) 1000atividades para a próxima semanacontrole
- (C) 1000;atividades para a próxima semana;controle
- (D) 1000
- (E) atividades para a próxima semana
27. Assinale a alternativa que informa corretamente a ação do ícone abc com um traço no meio, existente na guia Página Inicial, grupo Fonte, no Microsoft PowerPoint 2010, em sua configuração padrão, como destacado na imagem a seguir.



- (A) Elimina o texto selecionado.
- (B) Muda a formatação do texto selecionado para tachado.
- (C) Diminui a fonte da letra do texto selecionado.
- (D) Altera o texto selecionado para caixa baixa.
- (E) Aplica uma animação ao texto selecionado.

28. No Microsoft Excel 2010, em sua configuração padrão, um usuário criou uma planilha como apresentado a seguir.

| | A | B | C | D |
|---|---|--------|---|-------|
| 1 | | Nome | | Idade |
| 2 | | Paula | | 30 |
| 3 | | Vitor | | 34 |
| 4 | | Felipe | | 46 |
| 5 | | | | |

Se o usuário selecionar as células de B2 até B4, clicar em *Pincel de Formatação* para copiar a formatação e aplicar sobre a seleção de células de D2 até D4, o resultado nessas células será

(A)

| C | D | E |
|---|-------|---|
| | Idade | |
| | 30 | |
| | 34 | |
| | 46 | |

(B)

| C | D | E |
|---|-------|---|
| | Idade | |
| | 30 | |
| | 34 | |
| | 46 | |

(C)

| C | D | E |
|---|---------------|---|
| | Idade | |
| | 30 | |
| | 34 | |
| | 46 | |

(D)

| C | D | E |
|---|-------|---|
| | Idade | |
| | 30 | |
| | 34 | |
| | 46 | |

(E)

| C | D | E |
|---|---------------|---|
| | Idade | |
| | 30 | |
| | 34 | |
| | 46 | |

29. Em uma apresentação com 4 slides, criada no Microsoft PowerPoint 2010, em sua configuração padrão, em qual(is) slide(s) é preciso inserir um efeito de transição que seja exibido apenas do slide 1 para o 2 e do 3 para o 4?

- (A) 1, apenas.
- (B) 3, apenas.
- (C) 1 e 3, apenas.
- (D) 1 e 4, apenas.
- (E) 2 e 4, apenas.

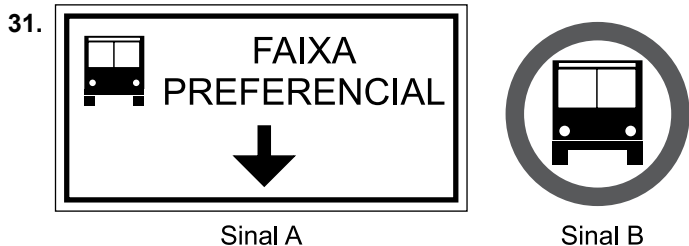
30. No uso de correio eletrônico, usando o Microsoft Outlook 2010, em sua configuração padrão, Artur recebeu uma mensagem com as seguintes características:

De: Leonardo
 Para: Artur, Herberto, Euclides
 C/C: Moacir, Gilberto

Artur clicou em Responder. Assinale a alternativa que apresenta corretamente o resultado dessa ação.

- (A) De: Artur
 Para: Leonardo, Herberto, Euclides
 C/C:
- (B) De: Artur
 Para: Leonardo, Herberto, Euclides
 C/C: Moacir, Gilberto
- (C) De: Artur
 Para: Leonardo, Herberto, Euclides, Moacir, Gilberto
 C/C:
- (D) De: Artur
 Para: Leonardo
 C/C:
- (E) De: Artur
 Para: Leonardo
 C/C: Herberto, Euclides, Moacir, Gilberto

CONHECIMENTOS ESPECÍFICOS



Cor do Sinal A: orla interna, pictograma, seta e mensagem pretas, orla externa e fundo branco.

Cor do Sinal B: orla vermelha, pictograma preto e fundo branco.

Quanto à sinalização proposta na figura, é correto afirmar que constitui infração de trânsito prevista no CTB

- (A) o desrespeito ao sinal A ou B.
 - (B) o desrespeito ao sinal A.
 - (C) o desrespeito ao sinal B.
 - (D) o desrespeito ao sinal A, se estiver acompanhado da legenda "ÔNIBUS" inscrita no solo.
 - (E) o desrespeito ao sinal B, se estiver acompanhado da legenda "ÔNIBUS" inscrita no solo.
32. Quando proibido o estacionamento na via, a parada deverá restringir-se ao tempo indispensável para
- (A) embarque ou desembarque de passageiros.
 - (B) carga e descarga de mercadorias ou animais.
 - (C) embarque ou desembarque de passageiros, ou carga e descarga de mercadorias.
 - (D) embarque ou desembarque de passageiros, ou carga e descarga de mercadorias desde que não interrompa ou perturbe o trânsito.
 - (E) embarque ou desembarque de passageiros, desde que não interrompa ou perturbe o fluxo de veículos ou a locomoção de pedestres.
33. O artigo 96 do CTB classifica os veículos quanto a espécie em:
- (A) passageiros, carga, misto, corrida, tração e especial.
 - (B) passageiros, carga, misto, competição, tração, especial e coleção.
 - (C) passageiros, carga, misto, tração, especial, corrida e coleção.
 - (D) passageiros, carga, misto, tração, especial, coleção e aprendizagem.
 - (E) passageiros, carga, misto, tração, utilitário, competição, especial e coleção.

34. Para a emissão da ordem de "seguir" para os veículos, o agente deve
- (A) estar com o braço levantado, com movimento de antebraço da frente para a retaguarda e a palma da mão voltada para trás.
 - (B) emitir um sinal de apito com um silvo breve.
 - (C) estar com o braço levantado, com movimento de antebraço da frente para a retaguarda e a palma da mão voltada para trás e emitir um sinal de apito com um silvo breve.
 - (D) estar com o braço levantado, com movimento de antebraço da frente para a retaguarda e a palma da mão voltada para trás e emitir um sinal de apito com dois silvos breves.
 - (E) estar com o braço levantado verticalmente, com a palma da mão para a frente e emitir um sinal de apito com um silvo breve
35. A aplicação de penalidades e a adoção de medidas administrativas, referentes às infrações de trânsito é de competência, respectivamente:
- (A) ambas da autoridade de trânsito.
 - (B) da autoridade de trânsito; da autoridade de trânsito ou seus agentes.
 - (C) ambas da autoridade de trânsito ou seus agentes.
 - (D) da autoridade de trânsito ou seus agentes; da autoridade de trânsito.
 - (E) dos agentes de trânsito.
36. O Manual Brasileiro de Fiscalização de Trânsito dispõe que uma vez constatada a infração, o agente de trânsito deve
- (A) lavrar a autuação.
 - (B) advertir ou lavrar a autuação, segundo seu critério.
 - (C) adotar as medidas administrativas cabíveis relativas à infração cometida.
 - (D) lavrar a autuação e adotar as medidas administrativas cabíveis.
 - (E) aplicar as penalidades cabíveis.

37. O julgamento dos recursos interpostos contra penalidades aplicadas pelos órgãos e entidades executivos de trânsito ou rodoviários deve ser feito
- pela Jari do órgão e entidade executivo de trânsito do município, onde o veículo é licenciado.
 - pela Jari do órgão e entidade executivo de trânsito do estado, onde o veículo é licenciado.
 - pela Jari do órgão e entidade executivo de trânsito ou rodoviário que impôs a penalidade.
 - pelo Conselho Estadual de Trânsito – CETRAN do estado onde o veículo é licenciado.
 - pelo Conselho Nacional de Trânsito – CONTRAN.
38. Quando a configuração de uma infração depender da existência de sinalização específica, esta deverá revelar-se suficiente e corretamente implantada de forma legível e visível. Caso contrário, o agente
- deve comunicar à Autoridade de Trânsito com circunscrição sobre a via e à respectiva JARI a irregularidade observada.
 - deve somente lavar a autuação.
 - deve lavar a autuação, comunicando à Autoridade de Trânsito com circunscrição sobre a via a irregularidade observada.
 - não deve lavar a autuação, comunicando à Autoridade de Trânsito com circunscrição sobre a via a irregularidade observada.
 - não deve lavar a autuação, comunicando à Jari do órgão de Trânsito com circunscrição sobre a via a irregularidade observada.
39. O infrator está sujeito às seguintes penalidades previstas no artigo 256 do CTB:
- advertência por escrito; multa; suspensão do direito de dirigir; apreensão do veículo; cassação da Carteira Nacional de Habilitação; cassação da Permissão para Dirigir; frequência obrigatória em curso de reciclagem.
 - retenção do veículo; remoção do veículo; advertência por escrito; multa; suspensão do direito de dirigir; apreensão do veículo; cassação da Carteira Nacional de Habilitação; cassação da Permissão para Dirigir; frequência obrigatória em curso de reciclagem.
 - retenção do veículo; remoção do veículo; multa; suspensão do direito de dirigir; apreensão do veículo; cassação da Carteira Nacional de Habilitação; cassação da Permissão para Dirigir; frequência obrigatória em curso de reciclagem.
 - multa; suspensão do direito de dirigir; apreensão do veículo; cassação da Carteira Nacional de Habilitação; cassação da Permissão para Dirigir; frequência obrigatória em curso de reciclagem.
 - advertência por escrito; multa; suspensão do direito de dirigir; apreensão do veículo; cassação da Carteira Nacional de Habilitação; cassação da Permissão para Dirigir; recolhimento da Carteira Nacional de Habilitação.
40. O Anexo I do CTB define via como: superfície por onde transitam veículos, pessoas e animais, compreendendo:
- a pista, ilha e canteiro central.
 - a pista, a calçada, ilha e canteiro central.
 - a pista, a calçada, o acostamento, ilha e canteiro central.
 - a pista, o acostamento, faixa de domínio, ilha e canteiro central.
 - a pista, a calçada, o acostamento, faixa de domínio, ilha e canteiro central.
41. Assinale a alternativa que complementa, correta e respectivamente, o artigo 24, inciso VIII do CTB.
- “Compete aos órgãos e entidades executivos de trânsito dos Municípios, no âmbito de sua circunscrição:
- “VIII. executar a _____ de trânsito, _____ e aplicar as medidas administrativas cabíveis, por infrações de _____ previstas neste Código, no exercício regular do Poder de Polícia de Trânsito;”
- operação ... advertir ... estacionamento e parada
 - operação ... autuar ... circulação, estacionamento e parada
 - fiscalização ... advertir ... estacionamento e parada e carga e descarga
 - fiscalização ... autuar ... circulação, estacionamento e carga e descarga
 - fiscalização ... autuar ... circulação, estacionamento e parada
42. As infrações de trânsito classificam-se, de acordo com sua gravidade, em quatro categorias. A cada infração cometida, conforme sua natureza, são computados números de pontos. Assinale a alternativa que relaciona natureza da infração e respectiva pontuação, conforme disposto no artigo 259 do CTB:
- gravíssima – 7 pontos; grave – 5 pontos; média – 4 pontos; leve – 3 pontos.
 - gravíssima – 9 pontos; grave – 7 pontos; média – 5 pontos; leve – 3 pontos.
 - gravíssima – 7 pontos; grave – 4 pontos; média – 3 pontos; leve – 2 pontos.
 - gravíssima – 9 pontos; grave – 5 pontos; média – 4 pontos; leve – 3 pontos.
 - gravíssima – 7 pontos; grave – 5 pontos; média – 3 pontos; leve – 2 pontos.

43. Aplicada a penalidade, é expedida notificação ao proprietário do veículo ou ao infrator, por remessa postal ou por qualquer outro meio tecnológico hábil, que assegure a ciência da imposição da penalidade. Assinale a alternativa correta.

- (A) Sempre que a penalidade de multa for imposta a condutor, sem exceções, a notificação será encaminhada ao proprietário do veículo, responsável pelo seu pagamento.
- (B) A notificação devolvida por desatualização do endereço do proprietário do veículo será considerada inválida.
- (C) A notificação devolvida por desatualização do endereço do proprietário do veículo será considerada válida.
- (D) Da notificação deverá constar a data do término do prazo para apresentação de recurso pelo responsável pela infração, que não será inferior a quinze dias contados da data da notificação da penalidade.
- (E) A notificação a pessoal de missões diplomáticas, de repartições consulares de carreira e de representações de organismos internacionais e de seus integrantes será remetida ao respectivo consulado para as providências cabíveis e cobrança dos valores, no caso de multa.

44. Conforme disposto no artigo 193 do CTB, é proibido transitar com o veículo em:

- (A) calçadas, passeios, passarelas, ciclovias, refúgios, canteiros centrais e divisores de pista de rolamento, acostamentos, marcas viárias, gramados e jardins públicos.
- (B) calçadas, passeios, passarelas, ciclofaixas, ilhas, ajardinamentos, canteiros centrais e divisores de pista de rolamento, acostamentos, marcas viárias, gramados e jardins públicos.
- (C) calçadas, passeios, passarelas, ciclovias, ciclofaixas, ilhas, refúgios, ajardinamentos, canteiros centrais e divisores de pista de rolamento, acostamentos, marcas de canalização, gramados e jardins públicos.
- (D) calçadas, passarelas, ciclovias, ciclofaixas, ilhas, refúgios, ajardinamentos, canteiros centrais e divisores de pista de rolamento, acostamentos, marcas viárias, gramados e jardins públicos
- (E) calçadas, passarelas, ciclovias, ciclofaixas, refúgios, ajardinamentos, canteiros centrais e divisores de pista de rolamento, acostamentos, marcas de canalização, gramados e jardins públicos.

45. Considere as seguintes situações

- I. quando o veículo estiver em movimento sob chuva forte, neblina ou cerração.
- II. quando o veículo estiver imobilizado ou em situações de emergência.
- III. quando o veículo estiver em movimento, de dia, nos túneis providos de iluminação pública.






De acordo com o CTB, os tipos de luzes do veículo a serem utilizadas nessas situações devem ser, respectivamente:

- (A) pelo menos a luz de neblina; luz de posição; pisca alerta.
- (B) pelo menos a luz de posição; pisca alerta; luz baixa.
- (C) pelo menos o pisca alerta; pisca alerta; luz de posição.
- (D) pelo menos a luz de neblina; luz de posição ; luz baixa.
- (E) pelo menos a luz de posição; luz de posição; luz de posição.

46. Avançar o sinal de parada obrigatória e avançar o sinal vermelho do semáforo constituem infrações de trânsito de natureza, respectivamente:

- (A) grave e gravíssima.
- (B) ambas gravíssimas.
- (C) média e grave.
- (D) ambas graves.
- (E) média e gravíssima.

47. O sinal R-24a "Sentido de circulação da via/pista" é representado pela seguinte figura:

- (A) 
- (B) 
- (C) 
- (D) 
- (E) 

48. Assinale a alternativa que complementa, correta e respectivamente, o artigo 29, inciso VII do CTB:

“Art. 29. O trânsito de veículos nas vias terrestres abertas à circulação obedecerá às seguintes normas:

“VII. os veículos destinados a socorro de incêndio e salvamento, os de polícia, os de _____ e as ambulâncias, além de prioridade de _____, gozam de livre circulação, estacionamento e parada, quando em serviço de urgência e devidamente identificados por dispositivos regulamentares de _____”.

- (A) Fiscalização de trânsito ... passagem ... iluminação vermelha intermitente
- (B) Fiscalização e operação de trânsito ... trânsito ... alarme sonoro e iluminação vermelha intermitente
- (C) Operação de trânsito ... passagem ... iluminação vermelha intermitente
- (D) Fiscalização e operação de trânsito ... passagem ... alarme sonoro e iluminação amarela intermitente
- (E) Fiscalização de trânsito ... trânsito ... alarme sonoro e iluminação amarela intermitente

49. O Código de Trânsito Brasileiro define caminhonete como:

- (A) veículo misto destinado ao transporte de passageiros e carga no mesmo compartimento.
- (B) veículo destinado ao transporte de carga com peso bruto total de até três mil e quinhentos quilogramas.
- (C) veículo destinado ao transporte de carga com peso bruto total superior a três mil e quinhentos quilogramas.
- (D) veículo automotor destinado ao transporte simultâneo de carga e passageiro com peso bruto total de até um mil e quinhentos quilogramas.
- (E) veículo destinado ao transporte de carga, podendo transportar dois passageiros, exclusive o condutor.

50. A sinalização vertical tem por finalidade transmitir aos usuários as condições com potencial de risco existentes na via ou nas suas proximidades, proibições, obrigações, restrições, direções, localizações, mensagens educativas, dentre outras no uso das vias urbanas e rurais. Assim, constituem infrações, previstas no capítulo XV do Código Brasileiro de Trânsito – CTB, o desrespeito à sinalização vertical classificada com a função

- (A) Advertência.
- (B) Orientação.
- (C) Indicação.
- (D) Regulamentação.
- (E) Educativa.

